

제 4 교시

2022학년도 대학수학능력시험 대비 오르비 연합모의고사 문제지

# 사회탐구 영역

- 4쪽이 모두 인쇄되어 있는지 확인하십시오.
- 문제지의 해당란에 성명과 수험번호를 정확히 쓰시오.
- 답안지의 필적 확인란에 다음의 문구를 정자로 기재하십시오.

끝에서 마주하는 맑은 하늘이

- 답안지의 해당란에 성명과 수험번호를 쓰고, 또 수험번호와 답을 정확히 표시하십시오.
- 문항에 따라 배점이 다릅니다. 3점 문항에는 점수가 표시되어 있습니다. 점수 표시가 없는 문항은 모두 2점입니다.
- 해당 문제지는 저자의 창작물로, 학교, 학원 등에서 학습 용도로 사용 가능합니다. 그러나 이 외의 용도(판매, 도용 등)로 사용하는 경우 법적 조치를 다할 것임을 알립니다.

생활과 윤리	.....	꽃 피고 봄 오면
윤리와 사상	.....	문제값는 선변, 유심환
동아시아사	.....	마지막기도
세계사	.....	EASY한 독도배다
정치와 법	.....	정경대학 다람쥐
한국사	.....	마지막 기도, EASY한 독도배다

※ 감독관의 안내가 있을 때까지 표지를 넘기지 마시오.

## 오르비 연합모의고사

제 4 교시

# 사회탐구 영역(생활과 윤리)

성명	수험 번호	제 ( ) 선택
----	-------	----------

1. (가), (나), (다)에 대한 설명으로 옳지 않은 것은?

(가) 윤리학은 모든 인류에게 적용되는 도덕규범의 체계를 정당화하기 위한 합리적인 근거를 제시해야 한다.  
 (나) 윤리학은 현실의 구체적인 문제에 대한 도덕적인 해결책을 제시하는 실천적인 활동에 주력해야 한다.  
 (다) 윤리학은 개인의 도덕적 경험과 사회의 도덕률에서 나타나는 인간 생활에 대한 기술 활동에 주력해야 한다.

- ① (가)는 도덕 문제 해결의 근거가 되는 이론적 규범을 중시한다.
- ② (가)는 (나)와 마찬가지로 윤리 이론의 타당성 여부를 강조한다.
- ③ (나)는 윤리학 그 자체에 대한 가치 중립적인 연구를 수행한다.
- ④ (나)는 (다)와 달리 도덕적 딜레마를 해결하기 위해 노력한다.
- ⑤ (다)는 도덕 현상들 간의 인과 관계를 명확히 설명하고자 한다.

2. (가), (나)의 입장으로 적절한 것만을 <보기>에서 고른 것은?

(가) 위정자가 현자(賢者)를 존중하지 않는다면 백성들은 싸우지 않을 것이고, 얻기 어려운 재화를 귀하고 값진 것으로 여기지 않는다면 백성들은 도둑질하지 않을 것이다.  
 (나) 하늘이 사람에게 선천적으로 부여한 것을 본성(性)이라 하고, 이 본성에 따라 일을 처리하고 행동하는 것이 도리(理)이자 가르침(教)일 것이다.

—<보 기>—

ㄱ. (가): 도(道)의 관점에서 세상 만물은 모두 평등하다.  
 ㄴ. (가): 인위적인 문명의 발달은 백성들에게 이익이 된다.  
 ㄷ. (나): 존비친소(尊卑親疏)를 구분하는 사랑을 실천해야 한다.  
 ㄹ. (가), (나): 좌망(坐忘)을 통해 자연의 질서에 따라야 한다.

- ① ㄱ, ㄴ    ② ㄱ, ㄷ    ③ ㄴ, ㄷ    ④ ㄴ, ㄹ    ⑤ ㄷ, ㄹ

3. 갑, 을 사상가들의 입장으로 가장 적절한 것은?

갑: 자연은 인류를 고통과 쾌락이라는 두 군주의 지배하에 두었다. 고통과 쾌락은 우리가 행하고, 말하고, 생각하는 모든 것들을 지배하는 절대적인 기준이 된다.  
 을: 도덕 법칙은 가장 완전한 존재자의 의지에 대해서는 신성(神性)의 법칙이다. 그러나 모든 유한한 이성적 존재자에 대해서는 의무의 법칙으로 자리 잡는다.

- ① 갑: 결과가 아닌 동기를 고려하는 행위가 도덕적이다.
- ② 갑: 쾌락은 선이지만 행복 추구는 삶의 목적이 아니다.
- ③ 을: 선의지에 따라 행동한 경우에만 행복해질 수 있다.
- ④ 을: 인간은 어떠한 경우에도 자연적 경향성을 따르지 않는다.
- ⑤ 갑, 을: 행위의 도덕성 판단은 보편적 도덕 원리에 근거해야 한다.

4. 갑 사상가가 을 사상가에게 제기할 수 있는 비판으로 가장 적절한 것은? [3점]

갑: 윤리는 행위의 질서와 권력의 규제를 위해 존재하는 것이다. 새로운 종류의 행위 능력은 윤리의 새로운 규칙을 요구하며, 이러한 능력은 독단적인 행위 권력과 함께 과학 기술의 폭력성을 보여준다. 미래 인류의 실존에 대한 책임 문제는 과학 기술에 대한 새로운 논의를 촉진할 수 밖에 없다.  
 을: 어떤 과학자도 자신의 연구와 실험 결과가 인류의 복지에 얼마나 기여할 것인가 또는 유해할 것인가를 측정할 수 없다. 과학자는 자신의 연구를 통해 발견한 진리를 공표할 책임만을 가지고, 과학 탐구의 학문적 성과가 인류 복지에 기여할 수 있는가의 문제는 이미 과학의 영역이 아니다.

- ① 과학 기술이 인류의 복지 향상에 기여할 수 없음을 간과한다.
- ② 과학 기술의 활용은 과학자의 영역에서 벗어나 있음을 간과한다.
- ③ 과학자는 가치 판단 없이 진리 발견만을 추구해야 함을 간과한다.
- ④ 과학 기술은 인류 실존의 명목으로 윤리학의 규제 대상이 됨을 간과한다.
- ⑤ 과학자는 자신의 연구에 대한 모든 책임으로부터 자유로움을 간과한다.

5. 다음 토론의 핵심 쟁점으로 가장 적절한 것은?

갑: 유전 질환으로 고통받는 사람들이 증가하고 있습니다. 이를 해결하기 위해 유전 질환에 대한 근본적인 해결책 마련이 시급합니다.  
 을: 동의합니다. 하지만 유전 질환의 치료 수단으로 생식 세포 유전자를 활용해서는 안 됩니다. 생식 세포 유전자 치료는 후세대의 인류에게 가해지는 강제적인 개입의 형태로 유전자 조작을 정당화할 위험이 있습니다.  
 갑: 그렇지 않습니다. 생식 세포 유전자를 활용한 유전 치료를 통해 유전 질환의 반복적인 발생을 방지할 수 있고, 선한 목적의 생식 세포 유전자를 활용한 치료 방법을 후세대를 향한 폭력이라고 보기는 어렵습니다.  
 을: 후세대에게 영향을 끼치지 않는 체세포를 활용한 유전적 치료는 허용될 수 있지만, 유전학적 개입으로 태어날 후세대의 자율성을 고려했을 때 생식 세포를 활용한 유전자 치료는 허용될 수 없습니다.

- ① 생식 세포를 활용한 유전 치료는 허용될 수 있는가?
- ② 유전 질환을 치료하기 위한 방법이 마련되어야 하는가?
- ③ 후세대의 의사와 상관없이 유전 치료는 장려되어야 하는가?
- ④ 치료 목적의 유전적 개입은 효용성을 고려해서는 안 되는가?
- ⑤ 체세포를 활용한 유전적 치료는 적절한 유전자 치료의 방법인가?

## 2 (생활과 윤리)

## 사회탐구 영역

6. 갑, 을 사상가들의 입장으로 적절하지 않은 것은? [3점]

갑: 수호자는 마치 야영하는 군인들처럼 공동으로 식사하고 생활해야 한다. 그리고 자신의 영혼 안의 신성한 금은을 인간의 소유물과 섞음으로써 더럽혀서는 안 된다. 세상의 금은을 멀리함으로써 자신과 나라를 모두 구할 수 있게 된다.  
 을: 공산주의 사회는 인간을 구속하는 노동의 분화, 곧 분업이 사라져 사회 구성원 중 누구도 배타적인 영역을 갖지 않고 각자가 원하는 분야에서 스스로를 도야시킨다. 공산주의 사회에서는 사회 그 자체가 전반적인 생산을 조절한다.

- ① 갑: 사회적 역할에 따라 요구되는 덕목의 종류가 다르다.
- ② 갑: 국가 운영을 맡은 자는 사유 재산을 가져서는 안 된다.
- ③ 을: 노동에 예속되어 있는 상태는 노예 상태와 다르지 않다.
- ④ 을: 노동은 생계 유지 이상의 가치를 지니는 능동적인 활동이다.
- ⑤ 갑, 을: 사회적 분업 없이 자율적으로 이상 사회를 형성해야 한다.

7. 다음을 주장한 사상가의 입장으로 적절한 것만을 <보기>에서 고른 것은? [3점]

국가는 그 본성상 다른 모든 공동체들의 최종 목표이다. 인간은 본성적으로 국가 공동체를 구성하는 동물이다. 국가 공동체를 추구하는 존재로서 인간은 군서(群棲) 동물과 본질적으로 같을 수 없다. 인간 공동체는 합의된 공동의 언어에 의해서만 가능하고, 국가 공동체는 개인과 가정에 우선한다.

<보 기>

ㄱ. 국가의 질서는 사회 정의를 실현하는 방식과 무관하다.  
 ㄴ. 국가는 가족 공동체 의식을 기반으로 하는 공동체이다.  
 ㄷ. 국가는 국가 구성원 보호를 위해 인위적으로 형성된다.  
 ㄹ. 국가는 선(善)을 추구하는 공동체들의 완성된 형태이다.

- ① ㄱ, ㄴ    ② ㄱ, ㄷ    ③ ㄴ, ㄷ    ④ ㄴ, ㄹ    ⑤ ㄷ, ㄹ

8. 갑, 을 사상가들의 입장으로 적절한 것만을 <보기>에서 있는 대로 고른 것은? [3점]

갑: 시민 불복종을 결심할 때에는 중단시키려고 하는 악의 크기와 우리의 행위가 가져올 법과 민주주의에 대한 존중의 심각한 감소 가능성을 저울질해 봐야 한다.  
 을: 시민 불복종은 정부의 법률과 정책을 변혁하기 위해 행해지는 공공적이며 비폭력적인 행위이다. 그렇지만 시민 불복종 행위가 법의 테두리 안에서 이행되는 행위인 것은 아니다.

<보 기>

ㄱ. 갑: 시민 불복종 행위가 성공할 가능성을 고려해야 한다.  
 ㄴ. 을: 시민 불복종 그 자체는 국가의 준립을 위협하지는 않는다.  
 ㄷ. 을: 정의의 제2원칙에 대한 위반은 모두 시민 불복종의 대상이다.  
 ㄹ. 갑, 을: 시민 불복종은 합의된 민주 원칙에 대한 저항 행위이다.

- ① ㄱ, ㄴ    ② ㄱ, ㄷ    ③ ㄴ, ㄹ
- ④ ㄱ, ㄷ, ㄹ    ⑤ ㄴ, ㄷ, ㄹ

9. 그림의 강연자가 지지할 주장으로 가장 적절한 것은?

우리는 일상적 소비를 하는 과정에서 합리적 소비와 윤리적 소비의 차이를 구분해야 합니다. 합리적 소비는 단지 최소 비용으로 최대 만족을 얻을 수 있는 상품을 선택하여 소비하는 행위를 말합니다. 이에 비해 윤리적 소비는 생산과 유통, 그리고 소비의 전 과정에서 윤리적 가치를 고려하여 소비하는 행위를 의미합니다. 경제적인 요소들을 전혀 고려하지 않은 채 소비하는 것은 적절한 소비 행위가 아니겠지만, 소비 행위를 할 때 자신의 소비 습관이 윤리적 소비에 부합하는지 확인하기 위해 노력해야 합니다.



- ① 윤리적 소비를 위해 합리적 소비를 금지해야 하는가?
- ② 윤리적인 요소를 배제하여 소비 습관을 점검해야 하는가?
- ③ 합리적 소비 행위와 윤리적 소비 행위는 구분될 수 없는가?
- ④ 최소 비용으로 최대 편익을 가져다주는 소비만을 해야 하는가?
- ⑤ 윤리적 가치가 포함된 소비 행위를 실천하기 위해 노력해야 하는가?

10. (가)의 갑, 을, 병 사상가들의 입장을 (나) 그림으로 탐구하고자 할 때, A~D에 들어갈 적절한 질문만을 <보기>에서 있는 대로 고른 것은? [3점]

(가)	<p>갑: 정의는 사적 소유를 철폐하고 필요에 따라 분배가 이루어져야 실현된다. 불평등을 근본적으로 해결하기 위해서는 분배 형식의 완전한 전환이 필요하다.</p> <p>을: 정의로운 상황으로부터 정의로운 단계를 거쳐 발생 하는 것은 정의롭다. 취득과 양도에서의 정의에 원리에 따라 소유물에 대한 소유 권리가 발생할 수 있다.</p> <p>병: 정의의 원칙은 정치적 자유의 공정한 가치와 공정한 기회균등으로 구성된다. 사회적 불평등은 최소 수혜자들의 이익에 기여하는 한에서 정당화된다.</p>
(나)	<div style="text-align: right; margin-bottom: 5px;"> <span style="border: 1px solid black; padding: 2px;">  </span> : 출발 조건  <span style="border: 1px solid black; padding: 2px;">  </span> : 판단 내용  <span style="border: 1px solid black; padding: 2px;">  </span> : 판단 방향  <span style="border: 1px solid black; padding: 2px;">  </span> : 사상가의 입장                 </div> <pre>                 graph TD                     Start[사상가 갑, 을, 병의 입장을 탐구한다.] --&gt; A{A}                     A -- 예 --&gt; J1[갑의 입장]                     A -- 아니요 --&gt; B{B}                     B -- 예 --&gt; C{C}                     C -- 예 --&gt; J2[을의 입장]                     B -- 아니요 --&gt; D{D}                     D -- 예 --&gt; J3[병의 입장]                     </pre>

<보 기>

ㄱ. A: 분배 정의 실현을 위해 국가는 반드시 사라져야 하는가?  
 ㄴ. B: 사람들은 자신의 천부적 자산에 대한 일정한 권리를 가지는가?  
 ㄷ. C: 과거의 상황이나 행위는 차별적인 소유 권리의 근거가 되는가?  
 ㄹ. D: 원초적 입장의 당사자들은 타인의 복리(福利)에 관심이 있는가?

- ① ㄱ, ㄷ    ② ㄱ, ㄹ    ③ ㄴ, ㄹ
- ④ ㄱ, ㄴ, ㄷ    ⑤ ㄴ, ㄷ, ㄹ

11. 갑, 을 사상가들의 입장으로 가장 적절한 것은?

갑: 영혼의 본성을 산출하는 원자들이 전부 없어진다면, 몸 전체 또는 일부가 계속 남아 있더라도 감각을 가지지 못할 것이다. 영혼을 둘러싸서 보호하는 몸이 현재의 모습과 더 이상 같지 않다면, 현실에서 영혼은 더 이상 감각할 수 없다.

을: 죽음이란 영혼이 몸에서 풀려나서 분리되어 지혜를 얻을 수 있는 곳으로 가는 기회를 제공한다. 영혼의 사유가 가장 잘 이루어질 때는 영혼이 몸과 작별하고서 가능한 한 자신 속으로 깊이 몰려날 때이다.

- ① 갑: 죽음은 내세에 대해 관심을 가짐으로써 극복된다.
- ② 갑: 죽음 이후에만 인간은 선의 본질을 파악할 수 있다.
- ③ 을: 죽음의 순간에 육체와 영혼은 함께 소멸하여 사라진다.
- ④ 을: 죽으면 인간을 구성하던 원자가 자연으로 흩어지게 된다.
- ⑤ 갑, 을: 죽음은 이상적인 인간에게는 두려움의 대상이 아니다.

12. 갑, 을 사상가들의 입장으로 가장 적절한 것은?

갑: 어진 사람이 할 일은 천하의 이익을 일으키는 것이다. 음악을 비난하는 이유는 악기의 소리가 즐겁지 않기 때문이 아니라, 위로는 성왕들의 일과 부합하지 아니하고, 아래로는 만백성들의 이익과 부합하지 않기 때문이다.

을: 음악은 사람의 마음을 하나로 만들고, 예의는 사람을 분별한다. 하나가 되면 친해지고, 분별이 있게 되면 서로 존경할 줄 알게 된다.

- ① 갑: 음악은 사람들에게 어떠한 즐거움도 줄 수 없다.
- ② 갑: 음악은 백성의 이익을 증진하는 기능을 수행한다.
- ③ 을: 음악은 인간의 도덕적 성품과 밀접한 관련이 있다.
- ④ 을: 음악은 미적 아름다움을 추구하는 역할에 국한되어야 한다.
- ⑤ 갑, 을: 음악은 도덕과 마찬가지로 사회 질서 유지에 기여한다.

13. 다음을 주장한 사상가의 입장으로 가장 적절한 것은? [3점]

지속적 위협의 중단이 평화 상태의 보증은 아니며, 이는 오직 법률적 상태에서만 일어날 수 있다. 평화 조약에 의해 당장의 전쟁은 종식될 수 있겠지만, 전쟁 상태 그 자체는 종식될 수 없다. 모든 법적 체제는 한 민족 안에서 인간들의 국가 시민법에 의한 체제, 상호 관계에 있는 국가들의 국제법에 의한 체제, 보편적인 인류 국가의 시민으로 보일 수 있는 한에서 세계 시민법에 의한 체제이어야 한다. 이러한 구분은 영원한 평화의 이념과의 관계에서 필연적이다. 평화 상태는 평화 연맹이라고 부를 수 있는 특수한 종류의 연맹이 있지 않으면 안 된다.

- ① 모든 전쟁의 종식 없이도 진정한 평화가 달성될 수 있다.
- ② 국제법의 이념에 따라 하나의 국제 국가가 수립되어야 한다.
- ③ 국가는 공법에 근거한 강제 사항을 이행해야만 하는 의무를 진다.
- ④ 주권 국가들 간의 자유로운 계약을 통해 평화 상태를 구축해야 한다.
- ⑤ 신속한 평화 실현을 위해 개별 국가들의 독립성을 인정하면 안 된다.

14. ㉠에 들어갈 진술로 가장 적절한 것은?

통일 한국이 지향해야 하는 가치는 크게 네 가지로 정의, 인권, 평화, 자유가 그것이다. 정의는 통일 한국의 구성원 모두가 합당한 대우를 받는 정의로운 국가의 형성으로 완성되고, 인권은 국가 구성원 모두의 존엄성을 존중함으로써 실현된다. 또한 평화는 전쟁 상태로부터 벗어나야 할 것을 명령하는 기능을 수행하고, 자유는 타인으로부터 받는 불의한 억압 없이 자신의 신념에 따른 개인의 선택권을 보장하는 것을 의미한다. 이러한 가치가 실현된 통일 한국은 ㉠(를) 주된 목표로 삼아야 할 것이다.

- ① 통일 이전 출신 국가에 따른 기본적 권리의 차등적인 부여
- ② 통일의 필요성에 대한 국민적 합의를 배제한 국가 이념의 정착
- ③ 자유와 인권을 공익 실현을 위해 제한하기 위한 방안의 제시
- ④ 국가 문화의 통일성 확립을 위한 불가피한 무력 사용의 조건 마련
- ⑤ 모든 국가 구성원들의 의사가 존중되는 민주적 의사 결정의 수립

15. (가)의 갑, 을, 병 사상가들의 입장을 (나) 그림으로 표현할 때, A~D에 해당하는 적절한 진술로 적절한 것만을 <보기>에서 있는 대로 고른 것은? [3점]

(가)	<p>갑: 인간 자신은 자신에 대한 의무에 반하는 행위를 해서는 안 된다. 자연 중 생명은 없지만 아름다운 것을 파괴하는 행위는 의무의 관점에서 허용될 수 없다.</p> <p>을: 대지 윤리는 이 공동체의 범위를 식물, 동물, 흙, 물을 포함하여 대지 전체를 포함하도록 확장하는 것이다. 대지 구성원인 인류는 대지의 평범한 구성원이다.</p> <p>병: 종 차별주의는 정당화될 수 없다. 동물의 고통을 인간의 고통과 달리 저급하게 여기거나 무시하는 행위는 이익 평등 고려의 원칙에 어긋난다.</p>
(나)	<div style="text-align: center;"> </div>

<보 기>

ㄱ. A: 이성 기반의 사유 능력은 도덕적 고려를 받기 위해 필요하다.  
 ㄴ. B: 도덕적 지위의 범위를 모든 생명체로 한정하는 것은 그르다.  
 ㄷ. C: 대지를 경제적으로 이용하는 행위가 금지되지는 않는다.  
 ㄹ. D: 동물이 인간을 위한 수단으로 사용될 수 있는 경우가 있다.

- ① ㄱ, ㄴ
- ② ㄱ, ㄹ
- ③ ㄴ, ㄷ
- ④ ㄱ, ㄷ, ㄹ
- ⑤ ㄴ, ㄷ, ㄹ

# 4 (생활과 윤리)

# 사회탐구 영역

16. 다음을 주장한 사상가의 입장에서 <사례> 속 학생 A에게 해 줄 수 있는 조언으로 가장 적절한 것은?

어진(仁) 사람은 타인이 자신과 다르다는 이유만으로 타인에 대한 사랑을 거두지 않는다. 어진(仁) 사람은 자신과 타인의 차이에 대해 있는 그대로 이해하고, 화합(和)의 정신을 실현하기 위해 노력한다.

<사 례>

학생 A는 전학 온 외국인 친구의 행동이 자신과 다르다는 이유로 그 친구가 어색하기만 느껴진다. A는 어떻게 하면 새로운 외국인 친구와 친하게 지낼 수 있을지 고민하고 있다.

- ① 외국인 친구가 지닌 문화를 그대로 바라보도록 노력하세요.
- ② 외국인 친구가 자신과 똑같이 행동할 수 있도록 가르치세요.
- ③ 외국인 친구의 문화가 자신의 문화보다 열등함을 명심하세요.
- ④ 외국인 친구의 새로운 생활 방식을 무조건적으로 수용하세요.
- ⑤ 외국인 친구와의 문화 차이는 결코 좁혀질 수 없음을 기억하세요.

17. 갑, 을 사상가들의 입장으로 가장 적절한 것은?

원조의 목적은 고통받는 사회를 대상으로 자유주의적이거나 적정 수준의 제도를 확립할 수 있도록 돕는 것이다. 원조 시행 여부의 결정 기준은 천연자원의 보유량의 절대적인 차이가 아니라 특정 사회가 지니고 있는 정치 문화 체제의 종류이다.

원조의 목적은 적은 비용으로 곤궁한 타인의 복리에 중요한 변화를 일으키는 것이다. 원조는 빈곤으로 인해 발생하는 고통을 줄이는 것을 목표로 삼아야 하며, 원조 주체는 절대 빈곤에 처한 사람들의 수를 줄이기 위해 노력해야 한다.



<보 기>

ㄱ. 갑: 최소 수혜자들의 복지 향상은 원조의 주된 목적이 아니다.  
 ㄴ. 을: 원조 의무는 공리 증진 여부와 무관하게 정당화될 수 있다.  
 ㄷ. 을: 자국의 빈민과 타국의 빈민의 이익을 평등하게 고려해야 한다.  
 ㄹ. 갑, 을: 자선적 차원의 원조 그 자체가 부정의한 것은 아니다.

- ① ㄱ, ㄴ
- ② ㄱ, ㄷ
- ③ ㄴ, ㄹ
- ④ ㄱ, ㄷ, ㄹ
- ⑤ ㄴ, ㄷ, ㄹ

18. 다음을 주장한 사상가의 입장으로 가장 적절한 것은? [3점]

결혼은 두 사람이 서로에게 평등한 권리를 허용하고, 자신의 전체 인격을 온전히 상대방에게 양도한다는 조건을 받아들이겠다는 두 사람 사이의 계약이다. 결혼은 도덕성에 대한 위반 없이 한 사람의 성적 충동을 행사할 수 있는 유일한 조건이다.

- ① 사랑을 전제로 하는 모든 성관계는 정당화될 수 있다.
- ② 출산을 목적으로 하는 부부 사이의 성관계만이 정당하다.
- ③ 결혼 여부는 성관계의 정당성을 판단하기 위한 유일한 조건이다.
- ④ 부부는 서로를 성적 욕구를 해소하기 위한 수단으로 활용할 수 없다.
- ⑤ 성적 자기 결정권이 침해되지 않은 모든 성관계는 도덕적으로 정당하다.

19. (가)의 갑, 을, 병 사상가들의 입장에서 서로에게 제기할 수 있는 비판을 (나) 그림으로 표현할 때, A~F에 해당하는 내용으로 가장 적절한 것은? [3점]

(가)	<p>갑: 사형은 살인자가 저지른 행위에 상응하여 부과되어야 하는 정당한 보복이다. 사형은 살인자의 인격을 보장할 수 있는 마지막 방법이다.</p> <p>을: 사형은 강렬한 인상만을 심어 줄 뿐 시민 사회를 위한 지속적인 인상을 형성하는 데 도움을 주지 못한다. 종신 노역형은 이러한 점에서 사형보다 합리적이다.</p> <p>병: 사형은 더 이상 국가 구성원이 아닌 자에 대해서 부과할 수 있는 형벌이다. 살인자에 대한 판결은 그가 아군이 아닌 적임을 선고하는 역할을 한다.</p>
(나)	<div style="text-align: center;"> </div> <div style="text-align: right; margin-top: 10px;"> <p>&lt;법 레&gt;              → : 비판의 방향              A~F: 비판의 내용</p> <p>&lt;예 시&gt;               A는 갑이 을에게 제기할 수 있는 비판임.</p> </div>

- ① A, C: 형벌 받을 행위를 의욕하는 범죄자는 존재할 수 없음을 간과한다.
- ② B: 사형은 범죄 역제력이 전혀 없는 잔혹한 형벌일 뿐임을 간과한다.
- ③ D: 형벌에 대한 범인의 동의를 형벌권의 기초가 됨을 간과한다.
- ④ E: 사형은 공적 정의 실현을 위한 수단이 될 수 있음을 간과한다.
- ⑤ F: 형벌 부과 시 범죄 예방 효과를 고려할 필요가 없음을 간과한다.

20. 다음 신문의 제목으로 가장 적절한 것은?

○○신문 ○○○○년 ○월 ○일

**칼 럼**

정보 사회에서 요구되는 인간은 효율적인 정보 통신 소양(literacy)을 지닌 사람이다. 여기서 말하는 정보 통신 소양이란 매체 이해력(media literacy)으로, 개개인에게 주어진 사회적 역할 내에서 정보 통신 기기들의 역량을 효과적으로 발휘하게 하는 데 필요한 기본적인 지식과 태도를 갖추는 것을 의미한다. 이 외에도 정보를 올바른 목적을 위해 사용하는 능력과 태도, 창의적인 문제 해결 능력과 태도로 정보 통신 기기에 종속되는 것이 아니라 정보 통신 기기에 대한 주된 의식을 바탕으로 살아가는 능력 또한 정보 통신 소양에 포함될 수 있다. 이와 같은 매체 이해력을 바탕으로 개인은 범람하는 정보들 속에서 어떤 정보가 유용한지 평가할 수 있는 능력을 길러야 한다.

- ① 매체 이해력은 불필요한 정보 확산을 촉진하는 사회악이다.
- ② 매체 이해력은 정보 사회에서 반드시 갖추어야 할 능력이다.
- ③ 매체 이해력은 개인이 정보 통신 기기에 종속되도록 만든다.
- ④ 매체 이해력은 정보 통신 소양과는 무관한 사회적 능력이다.
- ⑤ 매체 이해력은 개인의 창의적 문제 해결 능력을 저하시킨다.

\* 확인 사항  
 ○ 답안지의 해당란에 필요한 내용을 정확히 기입(표기)했는지 확인 하시오.

제 4 교시

# 사회탐구 영역 (윤리와 사상)

성명

수험 번호

제 [ ] 선택

윤리와 사상

1. 그림의 강연자가 강조하는 삶의 태도로 가장 적절한 것은?

도덕은 자유로운, 그러나 바로 그렇기 때문에 스스로 자신의 이성(理性)에 의해 자신을 무조건적인 법칙에 묶는 존재자인 인간의 개념에 기초하고 있습니다. 그런 한에서 도덕은 인간의 의무를 인식하기 위해서 인간 위에 있는 어떤 다른 존재자의 관념을 필요로 하지 않으며, 그 의무를 지키기 위해 법칙 자체 이외의 어떤 다른 동기를 필요로 하지도 않습니다. 인간 자신과 그의 자유에서 생겨난 것이 아닌 어떤 것도 인간의 도덕성의 결핍을 메워 줄 수는 없습니다.



- ① 보편적인 도덕 원리의 명령에서 벗어나도록 노력한다.
- ② 모든 감정을 버리고 의무로부터 비롯된 행위를 지향한다.
- ③ 자신의 행복을 완전히 배제하고 오직 도덕 법칙에 따른다.
- ④ 자연적 경향성이 섞이지 않은 순수한 동기에 따라 행동한다.
- ⑤ 자율적 선악 판단을 지양하고 외부의 타율적 명령에 복종한다.

2. (가)의 사회사상가 갑, 을의 입장을 (나) 그림으로 탐구하고자 할 때, A~C에 들어갈 옳은 질문만을 <보기>에서 있는 대로 고른 것은? [3점]

(가) 갑: 자유는 외부의 간섭과 방해가 없는 상태이다. 내 활동에 어느 누구도 간섭하지 않는 상태를 자유롭다고 일컫는다. 이러한 의미에서 자유는 한 사람이 타인에게 방해받지 않고 행동할 수 있는 영역을 말한다.  
 을: 자유는 노예 상태의 반대이다. 비록 주인의 실질적 간섭이 없더라도 주인의 지배 아래 사는 노예는 타인의 자의적 의지에 노출되고 타인의 처분에 따라 지배받는다는 점에서 자유롭지 않다. 완전한 자유는 비지배에 있다.

(나)

<보기>  
 ㉠ A: 자의적인 간섭은 진정한 자유와 양립할 수 없는 상태인가?  
 ㉡ B: 법의 규제도 일종의 간섭이므로 최소화되어야 하는가?  
 ㉢ B: 권력 기관이 폐지되어야 자유의 이상이 실현될 수 있는가?  
 ㉣ C: 공화국의 법은 비지배의 간섭으로 시민의 자유를 보장하는가?

- ① ㉠, ㉡                      ② ㉠, ㉢                      ③ ㉡, ㉣
- ④ ㉠, ㉢, ㉣                ⑤ ㉡, ㉢, ㉣

3. 고대 동양 사상가 갑, 을의 입장으로 옳은 것만을 <보기>에서 있는 대로 고른 것은? [3점]

갑: 존재에서 존재로 거듭나고 죽는 윤회를 계속하게 되는 근본적인 원인은 무명(無明)이다. 무명이라는 것은 커다란 어리석음이니, 무명에서 벗어나 밝은 지혜를 얻은 사람은 다시는 존재에 도달하지 않게 된다.  
 을: 인(仁)하지 못하다면 예(禮)는 무엇을 할 것이며, 인하지 못하다면 악(樂)은 무엇을 하겠는가? 예는 사치스럽기 보다는 차라리 검소해야 하고, 장례를 치를 때에는 형식을 갖추기보다 차라리 슬퍼해야 한다.

<보기>  
 ㉠ 갑: 중도를 올바르게 실천하여 존재의 계속됨을 없앨 수 있다.  
 ㉡ 을: 내면의 도덕성인 예(禮)를 갖추어야 인을 실천할 수 있다.  
 ㉢ 을: 인은 나와 다른 사람을 차별하지 않고 사랑하는 정신이다.  
 ㉣ 갑, 을: 사욕을 경계하고 선행을 실천하기 위해 노력해야 한다.

- ① ㉠, ㉢                      ② ㉠, ㉣                      ③ ㉡, ㉢
- ④ ㉠, ㉡, ㉣                ⑤ ㉡, ㉢, ㉣

4. 고대 서양 사상가 갑, 중세 서양 사상가 을의 입장으로 옳은 것은?

갑: 어떤 것이 존재하게 되고 그 본질을 갖게 되는 것은 '좋은 자체'로 인해서이다. 어떤 것의 '인식됨'이 가능하게 되는 것 역시 마찬가지이다.  
 을: 두 개의 사랑에 두 개의 나라가 형성된다. 지상의 나라는 자신을 사랑하고 심지어 신을 경멸함으로써, 천상의 나라는 신을 사랑하고 심지어 자신을 경멸함으로써 형성된다.

- ① 갑: 이데아는 사물의 완전하고 이상적인 모형이다.
- ② 갑: 현상계의 사물들은 자신의 본질을 전혀 반영하지 못한다.
- ③ 을: 신은 인간이 추구해야 할 최고선이자 만물의 내재적 원인이다.
- ④ 을: 신과 하나가 되기 전에는 신과 이웃을 온전히 사랑할 수 없다.
- ⑤ 갑, 을: 도덕적 덕을 갖추면 누구나 이상적 삶을 살 수 있다.

## 2 (윤리와 사상)

## 사회탐구 영역

5. (가)의 한국 유교 사상가 갑, 을, 병의 입장을 (나) 그림으로 표현할 때, A~D에 해당하는 진술로 적절한 것만을 <보기>에서 있는 대로 고른 것은? [3점]

(가)	<p>갑: 사단과 칠정에 구분이 있는 것은 성(性)에 본연과 기품의 차이가 있는 것과 같다. 사단은 이가 발하고 기가 따른 것이고, 칠정은 기가 발하고 이가 탄 것이다.</p> <p>을: 사단의 '단'은 시작을 뜻한다. 인의예지라는 명칭은 일을 행한 후 이루어지는 것이니, 어찌 인의예지의 네 알맹이가 살구의 씨처럼 사람의 마음속에 덩어리로 잠재해 있겠는가?</p> <p>병: 사단은 칠정의 선한 측면이고, 칠정은 사단을 포함한 것이다. 그러므로 칠정 이외에 다른 정(情)은 없다. 측은, 수오, 사양, 시비는 모두 기가 발하고 이가 탄 것이다.</p>
(나)	<p style="text-align: center;">&lt;별 레&gt;</p> <p>A: 을만의 입장 B: 병만의 입장 C: 갑과 병만의 공통 입장 D: 갑, 을, 병의 공통 입장</p>

<보 기>

- ㄱ. A: 사단(四端)은 마음[心]인 동시에 본성[性] 형성의 출발점이다.  
 ㄴ. B: 최고의 도덕 규범인 이(理)는 형태[形]와 작용[爲]이 없다.  
 ㄷ. C: 측은지심은 마음속의 인(仁)이 드러난 순수한 도덕적 감정이다.  
 ㄹ. D: 인간은 기질[氣]의 흐림과 치우침 때문에 악행을 하게 된다.

- ① ㄱ, ㄴ                      ② ㄴ, ㄷ                      ③ ㄷ, ㄹ  
 ④ ㄱ, ㄴ, ㄹ                  ⑤ ㄱ, ㄷ, ㄹ

6. 사회사상가 갑, 을의 입장으로 가장 적절한 것은? [3점]

갑: 질서 정연한 사회는 각 구성원들의 선을 증진해 줄 뿐만 아니라, 공적 정의관에 따라 효율적으로 규제되는 사회이다. 그런 사회를 실현하려면 원초적 입장에서 합의될 수 있는 정의의 원칙을 모두가 받아들여야 한다.

을: 공산 사회에서는 노동 분업에 예속된 개인의 노예 상태가 사라지고, 노동이 생활을 위한 수단일 뿐만 아니라 기본적인 욕구가 된다. 생산력 또한 인간의 전면적 발전과 함께 중시되고 집단적 부가 풍요로워진다.

- ① 갑: 이상 사회의 시민들은 서로의 이익과 처지에 대해 무관심하다.  
 ② 갑: 이상 사회에서는 개인의 자유보다 사회 전체의 효용이 증시된다.  
 ③ 을: 이상 사회에서는 국가 주도로 필요에 따른 분배가 실현된다.  
 ④ 을: 이상 사회에는 사회적 차원의 노동 분업이 존재하지 않는다.  
 ⑤ 갑, 을: 이상 사회에서는 생산 수단이 공유 자산으로 취급된다.

7. 고대 동양 사상가 갑, 을의 입장으로 옳은 것만을 <보기>에서 있는 대로 고른 것은?

갑: 사람들은 배고프면 먹으려 하고 수고로우면 쉬려고 하는데, 이것이 바로 사람의 성정(性情)이다. 자식이 아버지에게 사양하고 아우가 형에게 양보하는 것은 성정에 어긋나는 것이다.

을: 사람이 입에서 즐기는 것에 동일한 것이 있으니 마음에서도 다 같이 소중히 여기는 것이 없겠는가. 이(理)와 의(義)가 내 마음을 기쁘게 하는 것은 고기가 내 입을 기쁘게 하는 것과 같다.

<보 기>

- ㄱ. 갑: 예의(禮義)를 제정한 선왕(先王)의 본성은 악하지 않다.  
 ㄴ. 갑: 수양을 통해 성정을 바로잡아야만 군자(君子)가 될 수 있다.  
 ㄷ. 을: 자연적으로 타고나는 선천적 욕구가 인간의 본성[性]이다.  
 ㄹ. 갑, 을: 인간은 도덕적 인식 능력과 실천 능력을 타고난다.

- ① ㄱ, ㄷ                      ② ㄱ, ㄹ                      ③ ㄴ, ㄹ  
 ④ ㄱ, ㄴ, ㄷ                  ⑤ ㄴ, ㄷ, ㄹ

8. 사회사상가 갑, 을의 입장으로 옳은 것은?

갑: 개인은 자신의 노동 생산물이 최대의 가치를 갖도록 하여 자신의 이익만을 추구한다. 그는 이렇게 함으로써 보이지 않는 손에 이끌려 사회의 이익의 증진이라는 목적을 달성하게 된다.

을: 이 세상이 사적 이익과 사회적 이익을 항상 조화시키는 방향으로 작동되지 않는다. 사회적 이익의 관점에서 국가는 직접적으로 투자 계획을 수립해야 한다. 정부의 개입 없이 시장은 저절로 균형을 이루지 못한다.

- ① 갑: 정부는 시장의 문제를 해결하기 위해 사유 재산을 철폐해야 한다.  
 ② 갑: 정부는 중앙집권적 계획 경제로써 사회의 이익을 증진해야 한다.  
 ③ 을: 정부는 유효 수요 창출을 위한 투자의 사회화를 추진해야 한다.  
 ④ 을: 정부는 경제적 자율성 보장을 위해 시장 개입을 최소화해야 한다.  
 ⑤ 갑, 을: 정부는 수요와 공급의 법칙을 따르는 시장 원리를 부정해야 한다.

9. 다음을 주장한 근대 서양 사상가의 입장으로 옳은 것은? [3점]

인간이 악덕과 덕 간의 차이를 구분할 수 있는 것은 그것들이 일으키는 어떤 인상 또는 감정에 의해서임이 틀림없다. 악덕과 덕은 단순히 이성 또는 관념들의 비교에 의해 발견될 수 없기 때문이다. 도덕적 청렴과 타락에 관한 우리의 결정들은 명백히 지각들이다. 그리고 모든 지각은 인상이거나 관념이기에, 하나의 제거는 다른 하나에 대한 확실한 논증이 된다. 그러므로 도덕성은 판단된다고 하기보다는 느껴진다고 말하는 것이 적절하다.

- ① 자아 그 자체를 파악하기 위해서는 이성적 사유가 필요하다.  
 ② 도덕은 객관적 실체로서 존재하지 않으므로 보편화될 수 없다.  
 ③ 원인과 결과 사이의 실제적 결합은 반복적 관찰을 통해 인식된다.  
 ④ 개인적 이익을 추구하는 경향성은 도덕 판단을 가능하게 하는 원천이다.  
 ⑤ 주관적 감정을 통해서만 결코 도덕적 선악을 올바르게 분별할 수 없다.

### 10. 중국 사상가 갑, 을의 입장으로 옳지 않은 것은? [3점]

갑: 앎[知]과 행함[行]은 항상 서로를 의지한다. 이것은 마치 눈은 발이 없으면 가지 못하고 발은 눈이 없으면 보지 못하는 것과 같다. 선후를 논하면 앎을 우선해야 하고, 경중을 논하면 마땅히 행함을 중시해야 한다.  
 을: 앎은 행함의 시작이고, 행함은 앎의 완성이다. 효도와 공경을 안다고 말하기 위해서는 반드시 효도와 공경을 실천한 적이 있어야 한다. 말만 한다고 해서 그것을 안다고 할 수는 없다.

- ① 갑: 도덕적 앎과 실천은 서로 의지하는 관계[相須]이다.
- ② 갑: 격물(格物)의 물은 마음이 발동한 의(意)가 있는 곳의 일이다.
- ③ 을: 이치(理)를 학문적으로 탐구하지 않아도 시비와 선악을 알 수 있다.
- ④ 을: 앎 안에는 자연히 행함이 있고, 행함 안에는 자연히 앎이 있다.
- ⑤ 갑, 을: 도덕적 인간이 되기 위해서는 천리를 보존하고 인욕을 제거해야 한다.

### 11. 현대 서양 사상가 갑, 을의 입장으로 옳은 것은?

갑: 실존주의자가 생각하는 인간은 정의될 수 없는 존재이다. 왜냐하면 인간은 처음에 아무것도 아닌 존재이기 때문이다. 나중에야 비로소 그는 무엇이 될 수 있으며, 그 스스로 되고자 하는 존재를 만들어 가게 될 것이다.  
 을: 신앙은 개인의 내면적 열정과 객관적 불확실성 사이의 대립이다. 만일 내가 신을 객관적으로 파악할 수 있다면, 나는 신앙을 갖지 않을 것이다. 그러나 그렇게 할 수 없기 때문에 나는 신앙을 가질 수밖에 없다.

- ① 갑: 인간은 자유를 포함한 모든 것을 선택할 자유를 가진다.
- ② 갑: 인간은 다른 존재에 의해 세상에 우연히 내던져진 존재이다.
- ③ 을: 죽음에 이르는 병은 참된 행복으로 나아가는 계기가 된다.
- ④ 을: 윤리적 실존 단계를 거치지 않고도 참된 실존을 회복할 수 있다.
- ⑤ 갑, 을: 진리가 개별적이고 주관적이라는 생각에서 벗어나야 한다.

### 12. 사회사상가 갑, 을의 입장으로 옳은 것만을 <보기>에서 고른 것은? [3점]

갑: 민주주의는 '인민'과 '통치'라는 단어의 분명한 의미가 무엇 이진 간에, 인민이 실제로 통치한다는 것을 의미하지 않는다. 민주주의는 인민이 자신들을 통치할 사람들을 받아들이거나 거부할 기회를 갖는다는 것을 의미할 뿐이다.  
 을: 민주주의의 기본 특징은 심의에 있다. 시민들은 정치 문제와 관련된 공적 심의를 할 때 의견을 교환하고 의견을 지지하는 근거들에 대해 토론하며, 자신들의 의견이 토론을 통해 수정될 수 있음을 가정한다.

—<보 기>—

ㄱ. 갑: 일반 시민의 정치적 판단력은 엘리트 정치가보다 열등하다.  
 ㄴ. 갑: 민주주의는 다수 대중의 의견을 전혀 반영하지 않는 체제이다.  
 ㄷ. 을: 정책 심의 과정에서 해당 분야의 전문가를 배제해서는 안 된다.  
 ㄹ. 갑, 을: 유권자의 정치적 역할을 선거 참여로 국한해서는 안 된다.

- ① ㄱ, ㄴ    ② ㄱ, ㄷ    ③ ㄴ, ㄷ    ④ ㄴ, ㄹ    ⑤ ㄷ, ㄹ

### 13. 근대 한국 사상가 갑, 을의 입장으로 옳은 것은?

갑: 일원(一圓)은 우주와 일체 중생의 본원이며 모든 법의 근원이다. 어리석은 중생인 우리는 일원상을 본받아서 심신이나 사리를 원만하게 하는 공부를 해야 한다.  
 을: 인의예지(仁義禮智)는 옛 성인이 가르친 바이지만, 마음을 지키고 그 기운을 바르게 하는 법[守心正氣]은 내가 새롭게 정한 것이다. 나라를 돕고 백성을 편안하게 해야 한다.

- ① 갑: 불교만이 유일한 진리이고, 세속에서 벗어나 수양을 해야 한다.
- ② 갑: 정신의 개혁은 물질문명이 완성된 이후에 이루어져야 한다.
- ③ 을: 모든 사람은 빈부귀천에 관계없이 한울님[天主]을 모시고 있다.
- ④ 을: 오륜(五倫)을 부정함으로써 차별 없는 사회를 실현해야 한다.
- ⑤ 갑, 을: 유교 사상을 바탕으로 불교와 도교, 우리의 고유 사상을 통합해야 한다.

### 14. 갑, 을은 고대 서양 사상가들이다. 갑은 부정, 을은 긍정의 대답을 할 질문으로 옳은 것은?

갑: 우리가 쾌락의 부재로 인해 고통을 느낄 때에는 쾌락을 필요로 하지만, 고통을 느끼지 않는다면 더 이상 쾌락을 필요로 하지 않는다. 이런 이유 때문에 우리는 쾌락이 행복한 인생의 시작이자 끝이라고 말한다.  
 을: 우리를 심란하게 하는 것은 사건 자체가 아니라 사건에 대한 우리의 판단이다. 그렇기에 우리가 방해를 받거나 심란 하거나 슬픔을 당할 때에는 다른 사람을 탓하지 말고 우리 자신의 판단을 탓해야 한다.

- ① 쾌락은 이성에 따른 삶을 어렵게 만드는 원인으로 작용하는가?
- ② 공동체 안에서의 소박한 삶을 통해 정신적인 만족을 얻을 수 있는가?
- ③ 신(神)을 인간에게 악의를 지닌 인격적 존재로 이해해서는 안 되는가?
- ④ 자연적이고 필수적인 욕망을 최대한 충족하면 행복을 이룰 수 있는가?
- ⑤ 내면의 생각과 태도를 비롯한 세계의 모든 사건은 이미 결정되어 있는가?

### 15. 고대 서양 사상가 갑, 을의 입장으로 옳은 것은? [3점]

갑: 덕은 곧 지식이다. 무엇이 좋은지 알면서도 행하지 않거나, 나쁜 것을 알면서도 행하는 '자제력 없는 사람'은 있을 수 없다. 만약 우리가 그릇된 행위를 한다면 그것은 오직 무지 때문이다.  
 을: 덕 중에서 한 부분은 지성적 덕이고, 다른 한 부분은 품성적 덕이다. 지성적 덕으로는 철학적 지혜나 이해력, 실천적 지혜 등이, 품성적 덕으로는 '자유인다움'이나 절제 등이 있다.

- ① 갑: 유덕하게 행동하기 위해서는 덕이 무엇인지를 알아야 한다.
- ② 갑: 덕이 유익하므로 영혼에 관련된 모든 것들은 그 자체로 유익하다.
- ③ 을: 행복 실현을 위한 최고의 덕은 중용의 반복적 실천으로 형성된다.
- ④ 을: 본성적으로 생겨나는 품성적 덕은 합리적 선택과 결부된 감정이다.
- ⑤ 갑, 을: 참된 앎을 갖춘 사람은 어떤 경우에도 악한 행위를 하지 않는다.



# 4 (윤리와 사상)

# 사회탐구 영역

16. 사회사상가 갑, 을의 입장으로 가장 적절한 것은?

갑: 평화는 전쟁의 종식만으로는 보장되지 않는다. 평화란 인류가 추구해야 하는 목표로서, 직접적 평화, 구조적 평화, 그리고 문화적 평화가 모두 합쳐진 상태를 말한다. 이러한 평화를 저해하는 폭력은 평화적 수단을 통해 해소해야 한다.  
 을: 평화 조약은 하나의 전쟁을 종식시키지만 평화 연맹은 모든 전쟁을 영원히 종식시킨다. 평화는 도덕적 입법의 최고 자리에 위치한 이성이 명령하는 의무이다. 영원한 평화를 얻기 위해서는 자유로운 국가들이 연합하여 세계 시민 사회로 나아가야 한다.

- ① 갑: 모든 폭력은 물리력을 행사하는 개인에 의해서만 발생한다.
- ② 갑: 진정한 평화는 문화적 폭력이 사라지지 않더라도 실현될 수 있다.
- ③ 을: 평화 조약에 의해서 전쟁과 전쟁 상태가 모두 종식될 수 있다.
- ④ 을: 자유로운 국가들 간의 연맹은 모든 전쟁의 종식을 추구한다.
- ⑤ 갑, 을: 정치 제도를 개선하는 것은 평화를 실현하는 것과 무관하다.

17. 고대 중국 사상가 갑, 을의 입장으로 가장 적절한 것은?

갑: 도(道)를 도라고 할 수 있으면 영원한 도가 아니고, 이름을 이름 지을 수 있으면 진정한 이름이 아니다. 이름이 없는 것은 천지의 시초이고, 이름이 있는 것은 만물의 어머니이다. 그러므로 언제나 무욕(無欲)으로 그 미묘함을 보고, 유욕(有欲)으로써 그 드러남을 본다.  
 을: 생명은 끝이 있지만 알아야 할 것에는 끝이 없다. 끝이 있는 것을 가지고 끝이 없는 것을 좇으니 위험하다. 그런데도 앎을 추구하는 사람은 위험할 따름이다. 가운데[中]를 따름으로써 떳떳함을 삼으면 몸을 보존하고, 생명을 온전히 누릴 수 있으며 아버지를 부양할 수 있다.

- ① 갑: 겸허와 부쟁의 덕을 지니고 인의(仁義)를 실천해야 한다.
- ② 갑: 인간의 감각 기관을 통해 우주 만물의 근원을 파악해야 한다.
- ③ 을: 시비(是非)나 귀천(貴賤)의 분별은 상대적이며 사회 혼란을 초래한다.
- ④ 을: 자연의 섭리에서 벗어나 정신적 자유의 경지에 도달해야 한다.
- ⑤ 갑, 을: 무위의 다스림을 통해 백성들에게 예법(禮)을 가르쳐야 한다.

18. 한국 불교 사상가 갑, 을의 입장으로 옳은 것은?

갑: 일심(一心)의 도리는 말을 떠나고 생각이 끊어진 경지라 그것을 무엇이라고 해야 할지 모르겠지만, 굳이 말하자니 '일심'이다. 모든 법은 오직 일심이 있을 뿐, 일심 이외에 다시 어떠한 법도 없다.  
 을: 진리에 들어가는 천 가지 문은 결국 선정[定]과 지혜[慧]를 벗어나지 않는다. 선정은 본체이고, 지혜는 작용이다. 작용은 본체에 의존하고, 본체는 작용에 의존하므로 선정과 지혜는 서로 떠나지 않는다.

- ① 갑: 모든 존재와 현상은 마음이 만들어 낸 변하지 않는 실체이다.
- ② 갑: 청정한 마음인 일심은 현실로 나타난 중생의 마음과 본래 다르다.
- ③ 을: 부처가 설한 것이 선(禪), 조사가 마음으로 전한 것이 교(敎)이다.
- ④ 을: 자성을 직관하더라도 나쁜 습기를 제거하기 위한 수행이 필요하다.
- ⑤ 갑, 을: 경전을 이해하는 것만으로 완전한 깨달음에 이를 수 있다.

19. (가)의 사회사상가 갑, 을, 병의 입장에서 서로에게 제기할 수 있는 비판을 (나) 그림으로 표현할 때, A~F에 해당하는 내용으로 가장 적절한 것은? [3점]

(가)	<p>갑: 모든 사람을 떼게 만드는 공공의 힘이 없는 한, 인간은 전쟁 상태에 놓이게 된다. 이러한 전쟁은 '만인의 만인에 대한 투쟁'이라고 할 수 있다.                  을: 자연 상태는 비교적 평화롭지만 자연권을 확실하게 보장받지는 못한다. 개인은 자신의 권리를 보장받기 위해 계약을 맺고 국가를 세운다.                  병: 사회 계약은 각자 자신의 재산을 공동의 것으로 삼아 일반 의지의 감독하에 둘 것을 명한다. 정치 공동체의 구성원으로서 개인은 스스로 주권자이자 입법자가 된다.</p>
(나)	<p>〈별 레〉                  → : 비판의 방향                  A~F : 비판의 내용</p> <p>〈예 시〉                  갑 → A → 을                  A는 갑이 을에게 제기할 수 있는 비판임.</p>

- ① A: 국가는 국민의 재산을 보장할 의무를 가지고 있음을 간과한다.
- ② B, D: 국가 권력은 분할되거나 타인에게 위임될 수 없음을 간과한다.
- ③ C: 시민은 자연권을 해치는 정부에 저항할 권리를 지님을 간과한다.
- ④ E: 주권이 특정한 하나의 인격체에 양도될 수 없음을 간과한다.
- ⑤ F: 자연 상태는 부당한 일이 발생하는 어지러운 상태임을 간과한다.

20. 근대 서양 사상가 갑, 을의 입장으로 옳은 것은? [3점]

갑: 최대 행복의 원리는 고통과 쾌락이 우리의 말과 행동, 생각하는 모든 것을 지배한다는 것을 인정하며, 이러한 종속을 이성과 법의 손길로 더없이 행복한 구조를 세우려는 목적을 지닌 체계의 토대라고 가정한다. 공리는 측정 가능하며 양적이고 과학적인 것이다.  
 을: 최대 행복의 원리라는 궁극적인 목적에 비추어 볼 때 나머지 모든 것은 이것에 도움이 될 때 바람직한 것이 된다. 자기 의식과 자기 관찰의 습관을 지닌 사람들은 이러한 궁극적 목적을 선호하며, 질과 양을 비교하여 질을 선호한다. 이것은 인간 행동의 목적일 뿐만 아니라 도덕의 기준이다.

- ① 갑: 육체적 쾌락만이 양적으로 계산 가능한 참된 쾌락이다.
- ② 갑: 도덕적인 행위를 이성적인 판단과 무관한 것으로 간주해야 한다.
- ③ 을: 만족 상태보다 더 나은 불만족 상태가 존재할 수는 없다.
- ④ 을: 효용 극대화 의무는 인간의 자연적 성향으로부터 도출된다.
- ⑤ 갑, 을: 행위의 동기는 어떤 경우에도 선악 판단의 대상이 될 수 없다.

\* 확인 사항  
 ○ 답안지의 해당란에 필요한 내용을 정확히 기입(표기)했는지 확인 하시오.

제 4 교시

# 사회탐구 영역 (동아시아사)

성명		수험 번호																		
----	--	-------	--	--	--	--	--	--	--	--	--	--	--	--	--	--	--	--	--	--

1. (가)에 들어갈 유물로 가장 적절한 것은?

다음 사진의 유물은 일본에 벵농사가 처음 전래되었던 때의 유물이다. 이 시기에는 청동기 문화와 철기 문화가 공존했으며, 이 유물은 주술적인 용도로 사용되었을 것이라 추정된다.

(가)



2. 밑줄 친 '혼란의 시대'에 대한 설명으로 옳은 것은?

낙읍으로 왕실이 옮겨진 후, 왕실의 통제력은 더욱 약화되었다. 전국 각지에서 제후들이 강성하였다. 소를 이용하여 농사를 짓는 방식이 널리 보급되었고, 철제 농기구의 도입으로 농업 생산력이 발전하였으며, 이에 따라 토지의 사유화도 진전되었다. 철제 무기도 보급되어 제후들 사이에는 전쟁이 끊이질 않아 혼란의 시대가 지속되었다.

- ① 군국제가 실시되었다.
- ② 황제의 칭호가 사용되었다.
- ③ 5호가 화북 지역을 차지하였다.
- ④ 왜의 노국 왕에게 금인을 하사하였다.
- ⑤ 유가와 범가 등 제자백가가 등장하였다.

3. 밑줄 친 '나라'에 대한 설명으로 옳은 것은?

또 한 번 중원이 통일되었을 때, 중원의 왕조는 안으로는 대규모 토목 공사를 시행하였고, 밖으로는 주변 국가들을 견제하려 하였다. 일례로 몽골 고원에서 중앙아시아에 걸친 넓은 초원에는 유목 민족이 세운 나라가 있었는데, 세력이 너무 강성했던 탓에 중원의 왕조는 그 나라에 안의공주를 출가시키며 화친을 도모할 수밖에 없었다.

- ① 낙랑군을 멸망시켰다.
- ② 좌골도후와 우골도후를 두었다.
- ③ 3성 6부의 통치 체제를 갖추었다.
- ④ 북주와 북제로부터 조공을 받았다.
- ⑤ 맹안·모극제로 부족민을 통제하였다.

4. 다음 지도의 항해가 이루어진 시기에 동아시아에서 볼 수 있는 모습으로 가장 적절한 것은? (3점)



- ① 곤여만국전도가 제작되었다.
- ② 이종무가 대마도를 정벌하였다.
- ③ 카스틸리오네가 중국을 방문하였다.
- ④ 황중희가 명시대방록을 저술하였다.
- ⑤ 정통제가 오이라트에 포로로 잡혔다.

5. 밑줄 친 ‘새로운 막부’ 시기에 동아시아에서 볼 수 있는 모습으로 옳지 않은 것은?

전쟁으로 인해 막부의 권력을 뒷받침해 주던 고케닌은 막대한 경제적 타격을 입었다. 게다가 막부가 피해에 대한 보상을 적절히 해주지 않아 막부와 고케닌 사이의 관계는 더욱 악화되었다. 고다이오 천황은 이때를 틈타 막부를 무너뜨리려는 시도를 하게 되었는데, 유력 고케닌 세력이 천황의 편에 서면서 끝내 막부가 무너졌고, 천황이 정권을 주도하는 시대가 열리게 되었으나 얼마 지내지 않아 새로운 막부가 개창됨으로써 천황은 다시 실권을 잃게 되었다.

- ① 중국 - 전습록을 읽고 있는 유생
- ② 중국 - 일조편법을 전국으로 확대하는 황제
- ③ 일본 - 회취법으로 은을 생산하는 광부
- ④ 한국 - 백운동 서원에서 제사를 지내는 선비
- ⑤ 한국 - 삼포에 출입하는 선박의 숫자를 제한하는 관리


6. (가) 국가에 대한 설명으로 옳은 것은?

원래 (가) 왕실의 성은 이씨였으나, 송으로부터 조씨 성을 하사받았다. 하지만 새로이 지도자가 된 조원호는 조씨 성을 버리고 왕실의 성을 다시 이씨로 복구시킨 후 부족을 통합하고 황제의 자리에 올랐다. 송 인종은 이 사실에 격노하여 호수천에 군대를 보내 (가)의 군대와 격돌하였으나 패배하였고, 전쟁이 길어지자 두 나라는 강화 협상을 개최하여 군신 관계를 맺게 되었다.

- ① 고려를 침공하였다.
- ② 비단길을 장악하였다.
- ③ 연운 16주를 차지하였다.
- ④ 당으로부터 화번공주를 받았다.
- ⑤ 남면관·북면관제를 실시하였다.

7. (가) 학문이 유행하던 시기에 동아시아에서 볼 수 있는 모습으로 적절한 것은?

오른쪽 사진의 인물은 일본에서 (가)을/를 발달시킨 모토 오리 노리나가이다. 그는 일본 고유의 모습을 강조하며, 불교와 유교 등 외지에서 들어온 사상을 비판하였다. 그의 사상은 일본 우월주의를 강조하는 경향이 있었고 존왕 운동에 영향을 주었다.



모토오리 노리나가

- ① 중국 - 오경정의를 편찬하는 학자
- ② 중국 - 물건을 사고 교자로 계산하는 상인
- ③ 베트남 - 격장사를 지어 병사들을 격려하는 장수
- ④ 한국 - 민화 「까치 호랑이」를 구매하는 부녀자
- ⑤ 한국 - 사림 세력을 제거할 계획을 세우는 훈구파 관리

8. 다음 자료의 ‘(가) 제도’에 대한 설명으로 옳은 것은? (3점)

주(周)에서 장작감 설문우를 보내와 왕을 개부의동삼사 검교태사로 책봉하였고, 이어 백관의 의관을 중화의 것을 따르게 하였다. 쌍기가 설문우를 따라 왔다가 병에 걸려 머무르게 되었다. ... (중략)... 5월에 왕이 한림학사 쌍기를 지공거로 임명하고, 그의 의견을 받아들여 처음으로 (가)을/를 실시하니, 이로부터 비로소 문풍(文風)이 흥성하였다.

- 「고려사절요」 -

- ① 중국 - 청 정부의 신정으로 폐지되었다.
- ② 중국 - 동중서의 건의로 처음 시행되었다.
- ③ 한국 - 공인이 성장하는 배경이 되었다.
- ④ 일본 - 신기관의 설치에 영향을 주었다.
- ⑤ 일본 - 견당사에 의해 전래되어 시행되었다.

9. (가) 전쟁의 결과로 가장 적절한 것은? (3점)

(가) 전쟁, 어떻게 볼 것인가

당시 영국인들은 임치서의 행동을 핑계로 영국 상인의 교역을 보장하기 위해 전쟁을 벌여야 한다고 주장하였습니다.

하지만 영국인 중에서도 이 전쟁이 파렴치한 밀 무역을 보호하려는 것이며, 영국의 영원한 치욕이 될 것이라고 경고하는 사람도 있었습니다.




- ① 닝보를 비롯한 5개 항이 개항되었다.
- ② 러시아군이 만주에 주둔하게 되었다.
- ③ 베이징에 외국 군대가 주둔하게 되었다.
- ④ 청이 주룽반도를 영국에 할양하게 되었다.
- ⑤ 영국이 거문도를 무단으로 점령하게 되었다.

10. 밑줄 친 ‘혁명’이 이루어진 시기에 동아시아에서 볼 수 있는 모습으로 옳은 것은? (3점)

문학으로 보는 동아시아사

1900년대 초에 발표된 루쉰의 대표적인 소설 『아Q정전』은 왕조를 타도하기 위해 우창에서 일어난 혁명에 가담하였지만 누명을 쓰고 총살당한 날품팔이꾼의 이야기를 담고 있다. 신문화 운동의 주역이었던 루쉰은 주인공의 정신 상태를 통해 당시 중국의 구태의연한 사회 모습을 적나라하게 보여주며 신중국을 갈망하였다.



- ① 칭다오 일대를 점령한 일본군
- ② 보수파의 반발로 무산되는 자강 운동
- ③ 한국어판 반계신문을 읽고 있는 상인
- ④ 베트남 광복회를 조직하는 사회운동가
- ⑤ 기차를 타고 서울에서 부산으로 가는 학생

11. 다음 가상 일기의 (가) 도시에 대한 설명으로 옳은 것은?

<p>□□□□년 □□월 □□일</p> <p>우리가 처음 봉기한지도 몇 달이 지났다. 그동안 많은 어려움이 있었지만 우리는 그럴 때마다 극복해 왔다. 이제, 드디어 오늘, 새로운 나라가 수립되었다. 우리의 지도자가 □(가)에서 새 나라의 수립을 선포하고 임시로 대통령에 취임하였다고 한다.</p>	<p>△△△△년 △△월 △△일</p> <p>적들은 가는 곳마다 모두 죽이고, 전부 불태우고, 모조리 약탈한다는 이른바 '삼광 작전'을 지침으로 무자비한 학살을 전개하고 있다. 얼마 전 □(가)에서도 무차별적인 학살이 일어났다고 한다. 이에 우리는 충칭으로 이동하여 적과의 전쟁을 계속하기로 했고, 공산당 측과도 다시 하나가 되어 적들에게 맞설 계획을 세웠다.</p>
--	--

- ① 조선 의용대가 창설되었다.
- ② 중국 동맹회가 조직되었다.
- ③ 영국 상인이 신보를 창간하였다.
- ④ 무역을 담당하는 공행이 설치되었다.
- ⑤ 제2차 아편 전쟁의 결과로 개항되었다.

12. 다음 가상의 일기가 쓰인 해에 동아시아에서 볼 수 있는 모습으로 옳지 않은 것은? (3점)

0000년 00월 00일

폐하의 부름을 받고 궁에 들어온 지도 벌써 수년이 흘렀다. 폐하께서는 작년에 공사관에서의 생활을 끝내고 경운궁으로 돌아오신 이후로 더욱 수척하시다. 아무래도 돌아오시자마자 제국 수립을 선포하시고 여러 개혁들을 추진하시느라 제대로 쉬지 못해 힘이 드셨나보다.

- ① 만민 공동회에서 연설하는 선비
- ② 여권통문을 발표하는 양반 부인들
- ③ 천연론을 출간하는 사회 진화론자
- ④ 의회 도입을 주장하는 젊은 관료들
- ⑤ 철도 국유화 조치를 발표하는 청의 관리

13. (가), (나) 국가에 대한 설명으로 옳은 것은? (3점)

홍무 연간부터 실시된 정책으로 인해 교역이 어려워지자, 연해 지역의 사람들은 밀무역을 전개하였다. 이에 중국 정부가 단속을 강화하자, 밀무역을 하던 사람들은 해적 집단에 합류하기도 하였다. 한편, 중국에 조공하던 □(가)은/는 중국에서 생사나 도자기를 수입하여 동남아시아 등지에 되파는 등 중계 무역으로 번성하였으나, 중국이 정책을 완화하고 □(나)의 상인들이 마카오에 진출하자 쇠퇴하게 되었다.

- ① (가) - 플라카를 점령하였다.
- ② (가) - 사쓰마번의 침공을 받았다.
- ③ (나) - 타이완을 근거지로 하였다.
- ④ (나) - 갈레온 무역을 전개하였다.
- ⑤ (가), (나) - 공행을 통해 중국과 교역하였다.

14. 다음 대화가 이루어진 시기에 동아시아에서 볼 수 있는 모습으로 옳은 것은?

우리가 프랑스와 조약을 체결한 지도 벌써 10년이나 흘렀군. 그 조약을 맺어서 크리스티교를 전파하는 것을 허용했었지.

그뿐만이 아니었잖아. 그 조약으로 인해서 비엔호아를 비롯한 여러 성들을 프랑스에 넘겨주기도 하지 않았나.



- ① 강화도를 공격하는 일본 군함
- ② 주룽반도 할양을 결정하는 청의 관리
- ③ 전제 군주정을 선포하는 제국의 황제
- ④ 요코하마 마이니치 신문을 읽고 있는 상인
- ⑤ 별기군과의 차별에 반발하며 봉기한 구식 군인들

15. 다음과 같은 상황이 전개된 시기의 동아시아의 상황으로 옳은 것은? (3점)



→ 침입

가정 연간에 타타르의 세력은 더욱 강성해져 매년 중원에 침입하였다. 알탄 칸은 스스로 '테무친의 직계'임을 표방하면서 중원 왕조에 조공을 요구하면서 약탈을 자행하였고, 급기야 왕조의 수도를 포위하기에 이르렀다.

- ① 일본 - 뱃포기가 저술되었다.
- ② 일본 - 성리학이 전래되었다.
- ③ 한국 - 군역 대신 군포를 받았다.
- ④ 한국 - 조선 중화주의가 확산되었다.
- ⑤ 중국 - 적산에 법화원이 설립되었다.

16. (가) 인물에 대한 설명으로 옳은 것은?

1925년, □(가)은/는 베트남 최초의 사회주의 단체인 베트남 청년 혁명 동지회를 조직하였다. 이후 일본의 패망과 함께 전쟁이 끝나자, 그는 혁명을 일으켜 하노이 등을 장악하였다. 이에 응우옌 왕조의 황제가 퇴위하였고, 그는 공화국의 수립을 선포하였다. 하지만 프랑스는 이를 인정하지 않았고, 결국 전쟁이 벌어지게 되었다.

- ① 동유 운동을 전개하였다.
- ② 월남망국사를 저술하였다.
- ③ 도이머이 정책을 추진하였다.
- ④ 베트남 독립 동맹을 조직하였다.
- ⑤ 베트남 사회주의 공화국을 수립하였다.

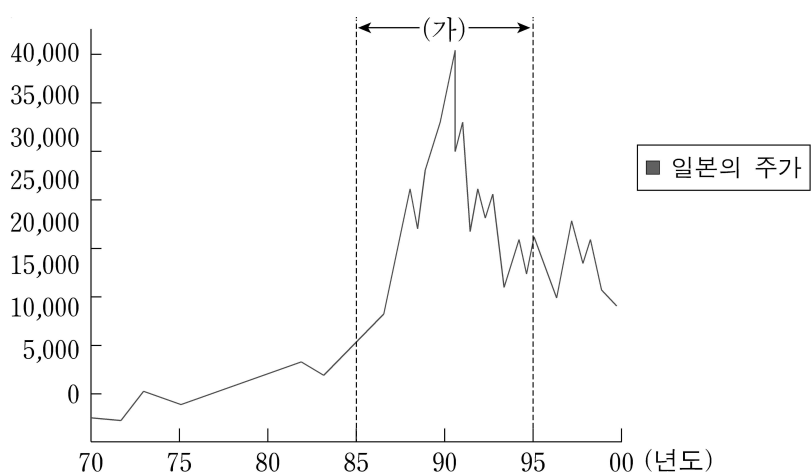
17. 다음 자료와 관련된 전쟁 중 동아시아의 상황으로 옳은 것은? (3점)

서명자들은 쌍방에 막대한 고통과 유혈을 초래한 한국 충돌을 정지시키기 위하여 최후적인 평화적 해결이 달성될 때까지 한국에서의 적대 행위와 일체 무장 행동의 완전한 정지를 보장하는 정전을 확립할 목적으로 ……

12. 적대 쌍방 사령관들은 육해공군의 모든 부대와 인원을 포함한 그들의 통제 하에 있는 모든 군사력이 한국에 있어서의 일체 적대 행위를 완전히 정지할 것을 명령하고 또 이를 보장한다. ……

- ① 일본 - 경찰 예비대가 창설되었다.
- ② 일본 - 록히드 사건이 발생하였다.
- ③ 중국 - 국민당이 연안을 점령하였다.
- ④ 중국 - 중국 토지법 대강이 발표되었다.
- ⑤ 타이완 - 미국과의 국교가 단절되었다.

18. (가) 시기와 같은 상황이 나타난 배경으로 가장 적절한 것은?



- ① 두 차례의 석유 파동을 겪었다.
- ② 합병법을 제정하여 외국 자본을 유치하였다.
- ③ 3저 호황의 영향으로 경제 성장이 이루어졌다.
- ④ 수출 기업을 보호하기 위해 금리를 대폭 낮추었다.
- ⑤ 국영 기업을 민간에 매각하고 경제특구를 설치하였다.

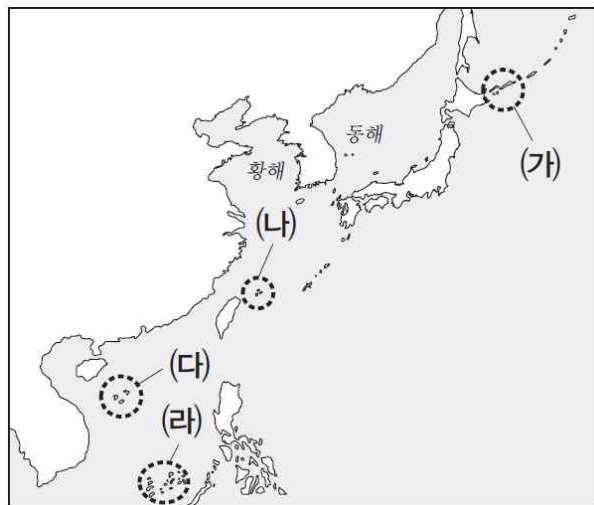
19. (가), (나) 시기 사이에 발생한 사실로 옳지 않은 것은? (3점)

(가) 전쟁이 길어지자, 전쟁을 반대하는 움직임이 확산되었고, 전쟁이 지속됨에 따라 재정 부담이 점점 늘어났기 때문에, 미국은 결국 아시아의 문제는 아시아 각국이 해결하게 한다는 새로운 외교 원칙을 수립하였다.

(나) 경제 특구가 설치된 상하이, 우창, 선전 등 남부 지방을 시찰한 그는 개혁 개방을 하지 않고, 경제를 발전시키지 않는다면 오로지 막다른 길로 나아갈 뿐이라며 개방 정책을 계속 유지하며 강화해야 한다는 입장을 발언을 하였다.

- ① 타이완의 계엄령이 해제되었다.
- ② 베트남이 캄보디아를 침략하였다.
- ③ 비자민당 연립 정권이 출범하였다.
- ④ 북한이 사회주의 헌법을 제정하였다.
- ⑤ 중국이 국제 연합(UN)에 가입하였다.

20. 지도의 (가)~(라) 지역에 해당하는 설명으로 옳은 것만을 <보기>에서 고른 것은? (3점)



<보기>

- ㄱ. (가) - 러시아가 영유권을 주장하고 있다.
- ㄴ. (나) - 3개의 국가가 영유권을 두고 분쟁하고 있다.
- ㄷ. (다) - 1974년 이래로 베트남이 실효 지배하고 있다.
- ㄹ. (라) - 파라셀 군도라고도 불린다.

- ① ㄱ, ㄴ    ② ㄱ, ㄷ    ③ ㄴ, ㄷ    ④ ㄴ, ㄹ    ⑤ ㄷ, ㄹ

※ 확인 사항  
○ 답안지의 해당란에 필요한 내용을 정확히 기입(표기)했는지 확인 하시오.

제 4 교시

# 사회탐구 영역(세계사)

성명	수험 번호																		
----	-------	--	--	--	--	--	--	--	--	--	--	--	--	--	--	--	--	--	--

1. (가) 문명에 대한 설명으로 옳은 것은?

나는 우르, 저녀의 그 아름다움과 사랑에 빠졌다. ... 과거의 매력은 나를 사로잡았다. ... 흙 속에 파묻힌 토기와 물건들을 조심스럽게 들어 올리니 나도 고고학자가 되었으면 하는 열망이 생겼다.

- 애거서 크리스티

[선생님 설명]

위 글은 추리 소설가 애거서 크리스티가 고고학자 레너드 울리의 (가) 문명 발굴 현장에 방문한 후 그때의 감상을 남긴 기행문입니다. 바그다드 등지를 여행하며 고고학에 관심을 갖게 된 그녀는 여러 고고학자들과 교류하였고, 이러한 그녀의 경험은 『오리엔트 특급 살인』, 『나일강의 죽음』 등과 같은 작품에 녹아들어 있습니다.

- ① 끝이 뾰족한 필기구를 이용해 점토판에 문자를 기록하였다.
- ② 뿔이 하나 달린 동물의 모습을 새긴 인장을 제작하였다.
- ③ 죽은 사람을 위한 안내서를 파피루스에 기록하였다.
- ④ 가나안(팔레스타인)에 정착하여 왕국을 건설하였다.
- ⑤ 자연 현상을 찬미하는 경전 『베다』를 제작하였다.

2. (가), (나) 국가에 대한 설명으로 옳은 것은?

당시 이 전투는 커다란 주목을 받지 못했다. (가) 측 사가들은 거의 기록을 남기지 않았고, (나) 측 기록에도 아무런 언급이 보이지 않는다. 그러나 장기적으로 볼 때 중앙아시아에서 중국의 영향력이 쇠퇴하고 이슬람권의 정치적·문화적 영향력이 증대하는 중요한 분수령이 되었다는 점에서 그 의미가 크다. ... 전투에서 생포된 (가) 측 포로 2만 명 가운데 제지 기술자들이 이슬람권으로 제지술을 전파시킨 것이 좋은 예다. 중국의 서쪽에서 가장 먼저 제지 작업장이 만들어진 곳이 사마르칸트였고, 이것이 중국인 포로들에 의해 가능케 되었다는 사실은 이미 학자들의 연구로 밝혀진 바이다.

- ① (가) - 수공업자 조합인 작(作)이 출현하였다.
- ② (가) - 취안저우 등지에 시박사를 설치하였다.
- ③ (가) - 쿠마라지바의 번역 활동을 지원하였다.
- ④ (나) - 지방의 기병에게 티마르를 부여하였다.
- ⑤ (나) - 수니파 이슬람교를 국교로 지정하였다.

3. (가) 황제 재위 시기에 있었던 사실로 옳은 것은?

“백성이 본업인 농업에 나아가지 않고, 말업인 상공업을 좇는 자가 늘어나고 있습니다. ... 바라옵건대, 소금과 철, 술의 전매 제도와 균수법을 폐지하는 것이 마땅하리라 생각합니다.” 대부가 반박하였다. “(가)께서 흉노에 붙잡혀 가는 우리 백성들을 불쌍히 여겨 군대를 주둔시켜 변경을 방비토록 하셨습니다. 그런데 이러한 변경 방비에 소용되는 재정이 부족하였기에 소금과 철, 술의 전매 제도를 시행하고 균수법을 실시한 것입니다.” 하였다.

- ① 튀양이 수도로 번영하였다.
- ② 외척 왕망이 실권을 잡았다.
- ③ 반고가 『한서』를 저술하였다.
- ④ 황제가 흉노에게 포위되었다.
- ⑤ 태학에서 훈고학이 연구되었다.

4. 밑줄 친 '제국'에 대한 설명으로 옳은 것은? [3점]

페로스 1세는 에프탈의 도움을 받아 호르미즈드 3세를 죽이고 제위에 올랐으나 말년에는 그들에 의해 부침을 겪었다. 에프탈에게 사로잡혔다가 거액의 몸값을 지불한 뒤 풀려나기도 했고, 복수를 준비하다가 오히려 역습을 당해 전사하고 말았다. 이후 오랫동안 제국의 동쪽이 에프탈에게 유린을 당하였고, 페로스 1세의 복수는 한 세기 이후 호스로 1세가 동방 정벌을 통해 에프탈을 멸망시킨 이후에야 이루어졌다.

- ① 메디나를 점령하였다.
- ② 칼리다사가 활동하였다.
- ③ 페르세폴리스를 건설하였다.
- ④ 조로아스터교를 국교화하였다.
- ⑤ 중국의 한 왕조와 교류하였다.

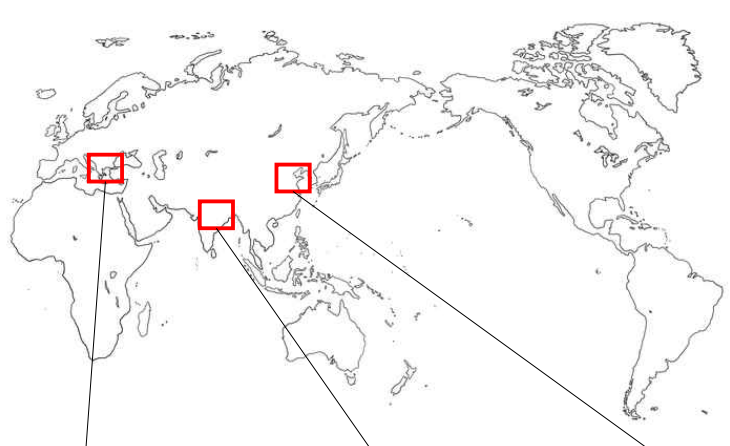
5. 밑줄 친 '부친'에 대한 설명으로 옳은 것은?

그는 부친을 살해한 이들에 대한 복수를 위해 많은 것을 양보해야 했다. 레피두스가 게을러졌을 때, 안토니우스가 방중에 빠졌을 때 국가의 혼란을 치유할 유일한 방법은 단일 지배 체제의 구축뿐이었다. 그러나 그는 자신이 왕이나 독재관이 되는 것이 아니라 원수정을 세움으로써 국가의 질서를 회복하였다.

- ① 갈리아 원정을 단행하였다.
- ② 리키니우스법을 제정하였다.
- ③ 악티움 해전에서 승리하였다.
- ④ 제국을 4분할하여 통치하였다.
- ⑤ 호민관으로서 개혁을 단행하였다.

6. (가)~(다) 인물에 대한 설명으로 옳은 것은?

[선생님 설명]  
기원전 10세기경부터 기원전 2세기경까지 전 세계에서 수많은 종교와 사상의 맹아가 싹텄습니다. 그리하여 이 시기를 '축의 시대'라 부르기도 합니다. 이 시기에 활동한 다양한 인물들에 대해 살펴보도록 할까요?



<p>[가]</p> <p>: 소크라테스의 제자로 여러 명의 철학자가 함께 통치하는 이상 국가 체제를 구상한 아테네의 철학자.</p>	<p>[나]</p> <p>: 샤카국의 왕자였으나 출가한 후 깨달음을 얻어 불교를 창시한 인도의 성인.</p>	<p>[다]</p> <p>: 인·예를 중심으로 한 도덕 정치를 주장한 중국의 정치사상가. 논어에 그의 사상이 담겨 있음.</p>
---	--	---

- ① (가) - 진리의 상대성을 주장하였다.
- ② (나) - 마니교의 교리에 영향을 주었다.
- ③ (나) - 고행과 금욕의 필요성을 강조하였다.
- ④ (다) - 차별 없는 사랑의 중요성을 주장하였다.
- ⑤ (다) - 상양의 개혁의 사상적 배경을 마련하였다.

7. 밑줄 친 '전쟁' 시기에 있었던 사실로 옳은 것은? [3점]

전쟁이 재개되자 빠르게 돌격하던 흑태자 에드워드는 푸아티에 인근으로 프랑스의 군대가 진군하고 있다는 소식을 접하였다. 이에 에드워드는 장궁병 위주로 군대를 배치하고 프랑스의 군대를 유인하는 작전을 세웠다. 그의 작전대로 위장 후퇴하는 에드워드의 군대를 쫓아가던 프랑스군은 장궁병들의 화살에 와해되기 시작하였고, 기회를 포착한 에드워드는 프랑스군의 지도부를 대거 포로로 잡았다. 그러나 에드워드의 진영에 전염병이 돌기 시작하였고, 협상에 나설 수밖에 없었던 에드워드 3세는 노르망디 지역과 칼레 등의 지역의 지배권을 보장받는 대가로 프랑스 왕위를 칭하기를 그만두었다.

- ① 신성 로마 제국에서 대공위 시대가 전개되었다.
- ② 요크 공작이 랭커스터 가문에 반기를 들었다.
- ③ 궁재 카롤루스 마르텔이 실권을 장악하였다.
- ④ 티무르의 군대가 앙카라로 진격하였다.
- ⑤ 위그 카페가 카페 왕조를 개창하였다.

8. 밑줄 친 '협약'이 체결된 시기를 옳게 고른 것은? [3점]

저는 교황 성하께서 신성 로마 제국의 하인리히와 맺은 협약에 대해 깊은 의구심을 품게 되었습니다. 왜냐하면 협약이 체결된 지 1년이 지나지 않았음에도 황제는 제 멋대로 슈트라스부르크의 주교였던 쿠노를 쫓아내고 제 심복인 브루노를 임명하였기 때문입니다. 이처럼 주교직 변경에 관한 승인 절차가 황제의 요구대로 관철된 사태에 대해 저는 분노합니다.

	(가)	(나)	(다)	(라)	(마)	
동서 교회 분열	예루살렘 왕국 건설	파티마 왕조 멸망	라틴 제국 수립	아바스 왕조 멸망	모범 의회 소집	

- ① (가)      ② (나)      ③ (다)      ④ (라)      ⑤ (마)

9. 밑줄 친 '막부'에 대한 설명으로 옳은 것은?

한편 막부의 재정을 확충하기 위해 다이묘에게 현상미를 부과하는 아게마이(上米) 제도를 도입하였다. 다이묘에게 현상미를 직접 부과하는 것은 전례없는 것이었기 때문에, 막부는 다이묘의 수도 체류 기간을 반 년으로 줄여주는 대가를 치러야 했다. 나아가 근본적인 재정 수입 증대를 위해 전답의 저당을 금지하고 농민이 소작인이 되는 것을 방지하는 한편, 상인에게 신전 개발을 장려하여 경지 확대를 통해 조세 증가를 꾀하였다.

- ① 조슈번 등과 대립하였다.
- ② 지조 개정을 단행하였다.
- ③ 센고쿠 시대를 통일하였다.
- ④ 슈고와 지토를 임명하였다.
- ⑤ 중국과 조공 관계를 맺었다.

10. (가) 인물에 대한 설명으로 옳은 것은?

[가]은/는 위구르자를 아는 정주민들에게는 위구르자를 사용한 칙령을 보낸 것으로 보인다. 이는 그가 호라즘의 술탄 무함마드를 추격하다 니샤푸르를 정복한 후 그 지역 사람들에게 위구르자로 칙령을 내렸다는 일화에서도 확인할 수 있다. 한편 그는 금과의 전쟁을 시작하면서 북중국 일대로 진출하였고, 그 결과 상당수의 정주민들을 통치하게 되었다. 그리고 통치 행위의 일환으로 그들에게 칙령을 하달해야 했는데, ... 금에서 이반한 거란인과 여진인들을 등용하면서 한자를 조칙 등으로 활용할 수 있게 된 것으로 보인다.

- ① 한인과 남인을 탄압하였다.
- ② 『수시력』 편찬을 명령하였다.
- ③ 울루스 연합체를 구성하였다.
- ④ 천호장과 백호장을 임명하였다.
- ⑤ 바그다드와 호르무즈를 점령하였다.

11. 밑줄 친 '혁명'을 주제로 한 탐구 활동의 계획으로 가장 적절한 것은? [3점]

혁명의 열기는 동방의 오스만 제국까지 다다랐다. 혁명의 해에 술탄의 지위에 오른 셀림 3세는 니자므 제디드(Nizam-ı Cedid) 개혁을 실시하였다. 특히 개혁 과정에서 창설된 니자므 제디드 군대는 혁명을 계승한 나폴레옹의 군대와 맞붙어 승리하기도 했다. 그러나 오스만 제국군은 피라미드 전투에서 프랑스군에 대패했고, 셀림 3세는 나폴레옹의 황제 즉위를 인정해야 했다. 전쟁의 패배로 실패의 기미를 보이던 니자므 제디드 개혁은 셀림 3세가 예니체리에 의해 암살당하며 종지부를 찍었다. 하지만 셀림 3세의 뒤를 이은 술탄들도 개혁을 이어나갔고, 이러한 개혁의 의지는 압둘메지트 1세가 시행한 탄지마트 개혁으로 꽃피운다.

- ① 샤를 10세 통치 시기의 사회상을 분석한다.
- ② 『나폴레옹 법전』의 법률적 의의를 검토해 본다.
- ③ 트라팔가르 해전 당시 양측의 전력을 비교해 본다.
- ④ 루소의 사상이 정치적으로 공인된 사례를 찾아본다.
- ⑤ 내각 책임제의 전통이 확립된 배경에 대해 살펴본다.

12. (가) 기구에 대한 설명으로 옳은 것은?

이 사건으로 인해 (가)이/가 추구하던 집단 안보의 이상은 물거품이 되었습니다. 이러한 사태는 표면적으로 침략국에 대한 국제 사회의 묵인 내지 무관심에서 기인한 것처럼 보입니다. 그러나 궁극적으로는 (가)이/가 만주국 수립으로 이어진 일본의 침략적 야욕에 제대로 대처하지 못한 무기력함에서 비롯된 것입니다.

- ① 파리 강화 회의를 주최하였다.
- ② 의회의 반대로 미국이 불참하였다.
- ③ 대서양 헌장에 기초하여 창설되었다.
- ④ 오스트리아·헝가리 제국이 가입하였다.
- ⑤ 유고슬라비아와 소련의 갈등을 중재하였다.

13. 밑줄 친 '폐하'에 대한 설명으로 옳은 것은? [3점]

폐하께서는 정복 활동을 통해 데칸 고원을 넘어 인도 남부에 이르기까지 많은 족속들을 그 발아래 엮드리도록 하심으로써 신의 영광을 드높이셨습니다. ... 비국교도 국민들에게 다시 인두세를 부과하신 폐하께서 다양한 종교적 신념이나 관행을 폄하하는 자들의 목소리에 귀를 제대로 기울이신다면, 이것은 경전에 기록된 진리의 말씀을 제대로 알지 못하는 것이나 다름없지 않겠습니까?

- ① 우파니샤드 철학을 장려하였다.
- ② 캘리컷(코지코드)를 점령하였다.
- ③ 마라타 동맹의 활동을 견제하였다.
- ④ 파니파트 전투를 승리로 이끌었다.
- ⑤ 브라흐마 사마지 운동을 탄압하였다.

14. (가), (나) 인물에 대한 설명으로 옳지 않은 것만을 <보기>에서 고른 것은? [3점]

프랑스어는 오랫동안 유럽 세계의 공식 언어로 인식되었고, 이에 따라 각국의 군주들도 프랑스어를 중요시하는 모습을 보였다. 솔레지엔을 차지하고 자국의 국력을 신장시키려 한 (가)은/는 “나는 남자에게는 프랑스어로, 말에게는 독일어로 말한다.”라 말하기도 했고, 그와 함께 폴란드 지역을 분할한 (나)은/는 프랑스어를 황실의 공식 언어로 지정하였다. 특히 그녀의 프랑스어 중시 정책은 제국 내에서 프랑스어를 고급스러운 언어로 인식하는 풍조로 이어졌는데, 그 때문에 제국의 하급 귀족 출신의 레닌 또한 어릴 때부터 프랑스어를 배웠던 것으로 전해진다.

<보기>

- ㄱ. (가) - 볼테르 등과 교류하였다.
- ㄴ. (가) - 7년 전쟁에서 패배하였다.
- ㄷ. (나) - 상트페테르부르크를 건설하였다.
- ㄹ. (나) - 농노제를 강화하는 정책을 펼쳤다.

- ① ㄱ, ㄴ    ② ㄱ, ㄷ    ③ ㄴ, ㄷ    ④ ㄴ, ㄹ    ⑤ ㄷ, ㄹ

15. (가) 왕조에 대한 설명으로 옳은 것은? [3점]



- ① 카니슈카왕 대에 최대 영토를 확보하였다.
- ② 자와섬에 보로부두르를 건립하였다.
- ③ 사산 왕조 페르시아와 교류하였다.
- ④ 시크교도의 반란을 진압하였다.
- ⑤ 칼링가 전투에서 승리하였다.



16. 밑줄 친 '그'에 대한 설명으로 옳은 것은?

몽골 제국의 정통을 이은 군주임을 선언하면서 황제임을 선포한 그는 팔기의 외연을 대폭 확대하였다. 이전까지는 팔기 구성원 가운데 여진인이 다수를 차지하고 있었다. 그러나 차하르 립단 칸의 패권 추구에 반발하여 많은 몽골 유목민이 투항하였고, 이어 그는 몽골 유목민 중 일부를 이용해 팔기몽고를 조직하였다. 또한 한국 조직을 확대하여 팔기한군을 만들었다.

- ① 군기처를 설치하였다.
- ② 베이징에 입성하였다.
- ③ 내몽골을 공격하였다.
- ④ 티베트를 정복하였다.
- ⑤ 문자옥을 단행하였다.

17. (가), (나) 국가에 대한 설명으로 옳은 것은? [3점]

피터 콜친은 자신의 저서에서 [가]와 [나]의 노예제와 농노제의 종식 과정에 대해 효과적으로 설명하였다. 전제주의적·위계적 전통의 맥락에서 오랫동안 군주에게 복종했던 [가]의 지주들은 1861년 해방령을 반대하지 않았지만, 민주적이고 다원적인 문화를 경험했던 [나]의 남부 지주들은 자식들의 생활방식을 지키기 위해 전쟁을 불사했다. 즉 '더 자유롭고 민주적인' 사회에서 노예제를 근절하기가 더 어려웠다는 것이다.

- ① (가) - 북방 전쟁에서 스웨덴에 패배하였다.
- ② (가) - 플라시 전투에서 영국을 지원하였다.
- ③ (나) - 태평양의 마셜 제도를 점령하였다.
- ④ (나) - 에스파냐와의 전쟁에서 승리하였다.
- ⑤ (가), (나) - 제1차 세계 대전 중 교전하였다.

18. (가) 인물에 대한 설명으로 옳은 것은?

저우언라이 총리의 사망으로 전 중국이 추모 분위기에 빠졌으나 4인방은 그조차도 가만두지 않았다. 오랜 경기 침체와 강압 통치에 불만을 갖고 있던 중국 국민들은 4인방의 행보에 크게 분노하였고, 그해 4월 5일 톈안먼 광장에 집결하여 반정부 시위를 벌였다. 4인방은 시위를 진압하고 덩샤오핑에게 그 책임을 물어 실각시켰다. 그러나 [가]이/가 사망하고 4인방이 실각하며 홍위병의 활동에 마침표가 찍히자, 다시 권력을 잡은 덩샤오핑은 톈안먼 시위의 정신을 인정할 수밖에 없었다.

- ① 시안 사건을 일으켰다.
- ② 흑묘백묘론을 주장하였다.
- ③ 공산당 토벌 작전을 전개하였다.
- ④ 도쿄에서 중국 동맹회를 결성하였다.
- ⑤ 루이진에 소비에트 정부를 수립하였다.

19. (가), (나) 국가 사이의 관계에 대한 설명으로 옳지 않은 것은? [3점]

- 와하브 운동은 압둘와하브가 무함마드 이븐 사우드와 동맹전선을 결성하여 와하브 왕국을 건설하는 것으로 이어진다. 와하브 왕국은 아라비아 반도에서 빠르게 성장하여 메카와 메디나를 장악하기도 했으나, 오래지 않아 [가]의 공격을 받아 멸망하였다.
- 이집트에 주둔한 [가]의 군대를 대파하여 돌풍을 일으켰던 마흐디 신국의 드높은 기개는 움두르만 일대에 도열한 맥심 기관총 앞에 무참히 분쇄되었다. 이로써 수단을 장악한 [가]은/는 중단 정책에 박차를 가하였다.

- ① 베르사유 조약에 서명하였다.
- ② 크림 전쟁에서 동맹을 맺었다.
- ③ 제1차 세계 대전 중 교전하였다.
- ④ 각각 카자르 왕조와 갈등을 겪었다.
- ⑤ 그리스 독립 문제를 두고 대립하였다.

20. (가)~(다)에 대한 설명으로 옳은 것은? [3점]



선생님 : 사진 속 인물인 요시프 브로즈 티토에 대해 탐구해 온 내용에 대해 발표해 보도록 합시다.

학생 1 : [가] 전쟁 중 유고슬라비아 왕실이 이탈리아의 그리스 침공을 지원하고 독일과 협력하는 등의 모습을 보이자 파르티잔을 조직하여 게릴라전을 벌였습니다.

학생 2 : [나] 기구에서 탈퇴하며 스탈린과의 결별을 선언하였습니다. 이는 유고슬라비아 공화국이 제3세계의 선봉에 서는 것으로 이어졌습니다.

학생 3 : 네루, 나세르 등과 함께 베오그라드에서 개최된 [다] 회의에 참여하였습니다.

- ① (가) - 독일이 국제 연맹을 탈퇴하는 것으로 이어졌다.
- ② (나) - 공산주의 진영의 정보 기관으로서 조직되었다.
- ③ (나) - 북대서양 조약 기구에 대항하여 결성되었다.
- ④ (다) - 평화 10원칙을 만장일치로 채택하였다.
- ⑤ (다) - 콜롬보 회의의 개최에 영향을 주었다.

\* 확인 사항

- 답안지의 해당란에 필요한 내용을 정확히 기입(표기)했는지 확인해 주십시오.

제 4 교시

사회탐구 영역(정치와 법)

성명

수험 번호    -

제 ( ) 선택

1. 다음 자료에 대한 설명으로 옳은 것은? (단, A, B는 각각 좁은 의미의 정치, 넓은 의미의 정치 중 하나이다.)

교사: 정치를 바라보는 관점은 크게 A와 B가 있습니다. 이에 대하여 발표해 보세요.  
 갑: A는 국가 이전의 정치 현상을 설명하기 용이합니다.  
 을: \_\_\_\_\_ (가)  
 병: B는 정치를 국가를 통치하는 데 행사되는 리더십과 그 영향력에 한정하여 정의해야 한다고 봅니다.  
 교사: 2명만 옳게 발표했네요.

- ① A는 복잡하고 다원화된 현대 사회의 갈등 해결 양상을 설명하기 어렵다.
- ② B는 물리적 강제력을 독점한 통치 기구의 권력 활동을 정치로 보지 않는다.
- ③ A, B는 모두 쓰레기 매립장 설립을 위한 주민 공청회를 정치로 본다.
- ④ (가)에는 'A, B는 모두 노사 간의 임금 결정 과정을 정치로 봅니다.'가 들어갈 수 있다.
- ⑤ (가)에는 'B는 A와 달리 기업에 대한 시민 단체의 감시 활동을 정치로 봅니다.'가 들어갈 수 없다.

2. 다음은 정치 참여 집단에 관한 수업 자료와 이에 대한 갑~병의 진술이다. 이에 대한 분석으로 옳은 것은? (단, A~C는 각각 정당, 시민 단체, 이익 집단 중 하나에 해당하는 집단이다.) [3점]

《수업용 자료》  
**- A, 국민 대상 정책 공모전 개최 -**  
 A는 이번 선거에서의 정책 공약을 위해 국민을 대상으로 정책 공모전을 개최하였다. 해당 공모전에는 개인뿐만 아니라 다양한 단체도 참여하였다. 시민과 소통하는 공정한 정책선거를 목적으로 구성된 B는 시민 참여 예산 제도 활성화를 목표로 한 정책을 제안하였으며, 기업의 발전을 위해 구성된 C는 기업의 법인세를 인하하는 정책을 제안하였다.

갑: A는 B와 달리 공익을 목적으로 추구하는 집단이야.  
 을: A는 B와 달리 정치적 책임을 지지.  
 병: C는 A와 달리 대의제의 한계를 보완해.

- ① B는 C와 달리 정치 사회화 기능을 수행한다.
- ② C는 A와 달리 정책 결정 및 집행 과정에 영향력을 행사한다.
- ③ 갑과 을의 진술은 모두 옳고, 병의 진술은 옳지 않다.
- ④ 갑은 B를 정권 획득을 목적으로 활동하는 집단으로 이해하고 있다.
- ⑤ 을과 병은 모두 A를 행정부와 의회를 매개하는 역할을 하는 집단으로 이해하고 있다.

3. 밑줄 친 ㉠~㉢에 대한 옳은 설명만을 <보기>에서 고른 것은?

사회 문제는 주로 기존의 정치 체계가 환경을 따라가지 못했을 때 발생하게 된다. 따라서 국민 등 비공식적 정책 결정자에 해당하는 정치 참여 주체도 사회 문제에 대한 자신들의 견해를 ㉠ 투입한다. 이러한 투입은 ㉡ 공식적 정책 결정 기구의 ㉢ 산출에 반영되는데, 산출이 국민 등 비공식 정책 결정자가 원하는 방향에 부합하지 않는 경우 ㉣ 환류를 통해 기존에 산출된 정책의 변경을 요구한다.

<보 기>

- ㉠. 행정부, 사법부, 정당은 ㉡에 해당하는 기구이다.
- ㉡. ㉠이 ㉢에 잘 반영될수록 국민의 정치 효능감은 높아진다.
- ㉢. 시행된 정책에 대한 시민의 독자 투고는 ㉢에 해당한다.
- ㉣. 대표자 선출을 위한 선거 참여로 ㉣이 이루어질 수 있다.

- ① ㉠, ㉡    ② ㉠, ㉢    ③ ㉡, ㉢    ④ ㉡, ㉣    ⑤ ㉢, ㉣

4. 우리나라 헌법의 기본 원리 A에 대한 설명으로 가장 적절한 것은?

A는 국민 각자가 자율적으로 생활을 영위할 수 있도록 기초적인 생활환경을 조성함으로써 실질적인 자유와 평등을 보장하는 것을 내용으로 한다. 따라서 A의 구체적인 방안으로 사회적 기본권의 보장, 소득의 적정분배, 사회 복지 제도 등을 들 수 있다.

- ① 남북 분단이라는 현실을 반영한 우리나라 헌법의 특수 원리이다.
- ② 국가가 국민의 인간다운 생활을 보장하기 위하여 적극적인 역할을 해야 한다는 원리이다.
- ③ 국가가 국제 질서를 존중하고 세계 평화와 인류의 번영을 위해 노력해야 한다는 원리이다.
- ④ 국가가 문화를 보호하고 문화 활동의 자유를 보장하여 문화를 발전시켜야 한다는 원리이다.
- ⑤ 국가는 개인의 자유를 존중해야 하며 국민의 동의와 지지를 바탕으로 국가 권력을 행사해야 한다는 원리이다.

5. 다음 자료에 대한 설명으로 옳은 것은? [3점]

일반적으로 지방 자치 단체의 기관을 말할 때에는 A와 B를 주로 말한다. A는 지방 자치 단체의 행정 사무를 총괄하는 집행 기관으로 (가) 을/를 통해 B를 견제할 수 있다. 반면 B는 지방 자치 단체의 의결 기관으로 (나) 을/를 통해 A를 견제할 수 있다. 한편 지방 자치 단체에서는 주민의 참여가 제도로 보장되고 있는데 대표적인 제도로는 ㉠ 주민 소환 제도와 ㉡ 주민 투표 제도 등을 들 수 있다.

- ① (가)에는 '지방 행정에 대한 감사권'이 들어갈 수 있다.
- ② (나)에는 '조례안 재의 요구권'이 들어갈 수 있다.
- ③ B와 달리 A는 주민으로부터 직접 정당성을 부여받은 기관이다.
- ④ ㉠에 의하더라도 B의 모든 구성원을 해임할 수 없다.
- ⑤ ㉠과 달리 ㉡은 직접 민주 정치 요소에 해당한다.

## 2 (정치와 법)

## 사회탐구 영역

6. 다음 자료에 대한 옳은 설명만을 <보기>에서 있는 대로 고른 것은? (단, A~C는 각각 자유권, 평등권, 사회권 중 하나이다.) [3점]

표는 기본권의 유형 A~C를 학생 갑~병이 구분한 것이다. 세 학생 모두 한 개의 진술만을 옳게 구분했으며, 각 진술에 대하여 한 명의 학생만이 옳게 구분하였다.

진술	갑	을	병
헌법에 열거되지 않아도 보장되는 포괄적 권리이다.	B, C	A, C	A, B
㉠ 소극적 권리이면서 방어적 권리이다.	B	A	C
(가)	A	B	C

<보 기>

- ㉠. ㉠에 대해 갑이 옳게 답한 경우, A는 B와 달리 국가의 간섭을 배제하는 권리이다.  
 ㉡. ㉠에 대해 을이 옳게 답한 경우, C는 B와 달리 국가의 존재를 전제로 하는 권리이다.  
 ㉢. ㉠에 대해 을이 옳게 답한 경우, (가)에 '국가로부터의 자유를 추구하는 권리이다.'가 들어갈 수 있다.  
 ㉣. ㉠에 대해 병이 옳게 답하였고 (가)에 대해 을이 옳게 답한 경우, (가)에 '합리적인 이유 없는 국가 행위의 부작위를 요구하는 권리이다.'가 들어갈 수 있다.

- ① ㉠, ㉡                      ② ㉠, ㉢                      ③ ㉡, ㉣  
 ④ ㉠, ㉢, ㉣                ⑤ ㉡, ㉢, ㉣

7. 다음 자료에 대한 옳은 설명만을 <보기>에서 있는 대로 고른 것은? [3점]

<수행 평가 과제>

대통령의 권한이 신중하게 행사되도록 하기 위한 제도적 장치에는 행정부 내부의 통제 수단과 다른 국가 기관들이 대통령의 권한 행사를 견제할 수 있는 수단이 있다. 각 문항에 대해 옳은 진술을 두 가지씩 서술하시오. (문항에 대해 옳은 답변을 한 경우 각각 1점을 부여함.)

문항	답변	점수
행정부 내부의 통제 수단은?	감사원은 고위 공직자의 직무를 감찰한다.	㉠
	(가)	0점
다른 국가 기관들이 대통령의 권한 행사를 견제할 수 있는 수단은?	(나)	1점
	(다)	㉡
총점		㉢

<보 기>

- ㉠. (가)에 '대통령의 국법상 행위에 관한 문서에 국무총리와 관련 국무위원이 부서한다.'가 들어갈 수 있다.  
 ㉡. (나)에 '헌법 재판소는 법률의 위헌 여부를 심판할 수 있는 권한을 가진다.'가 들어갈 수 있다.  
 ㉢. (다)에 '대법원은 대통령이 제정한 명령의 위헌·위법 여부에 대한 최종 심사권을 가진다.'가 들어간다면, ㉠과 ㉡에 들어갈 점수가 동일하다.  
 ㉣. ㉢이 '2점'이면 (다)에 '헌법 재판소는 대통령의 직무 집행에 있어 헌법이나 법률을 위반한 경우 대통령에 대한 탄핵을 소추할 수 있다.'가 들어갈 수 있다.

- ① ㉠, ㉡                      ② ㉠, ㉢                      ③ ㉢, ㉣  
 ④ ㉠, ㉡, ㉢                ⑤ ㉡, ㉢, ㉣

8. 법치주의의 유형 A, B에 대한 설명으로 옳은 것은?

법치주의는 국가가 국민의 자유와 권리를 제한하거나 의무를 부과할 때에는 반드시 의회에서 제정한 법률로써 해야 한다는 원리이다. 일반적으로 법치주의의 유형은 A와 B로 구분된다. A는 '현존하는 실정법 체계에 합치하는 상태'를 의미한다. 가령 어느 한 법률이 합법적 절차에 따라 제정되었다면, 이 법률은 합법성을 갖췄다고 말한다. 이에 반해 B는 어느 한 법규범이 올바른 내용을 추구하고 있는지를 문제 삼는다. 주어진 실정법 체계에 합치하는 것만으로는 정당성이 부여되지 않으며, 일종의 '도덕적인 올바름'을 담고 있어야만 정당성을 획득할 수 있으므로, B는 법규범의 내용적인 문제를 다룸을 알 수 있다.

- ① A는 B와 달리 국가 권력의 자의적인 통치를 초래할 수 있다는 비판을 받는다.  
 ② A는 B와 달리 국민의 기본권 제한을 위해서는 의회가 제정한 법률에 근거가 있어야 한다고 본다.  
 ③ B는 A와 달리 법률에 대한 헌법의 우위를 보장하기 위한 헌법 재판 제도의 필요성을 간과한다.  
 ④ B는 A와 달리 공권력의 행사가 법률에 따를 것만을 강조하여 입법자에 의한 기본권 침해의 가능성을 간과한다.  
 ⑤ A와 B는 모두 통치자를 제외한 모든 사람이 법에 구속되어야 한다고 본다.

9. 다음 자료에 대한 설명으로 옳지 않은 것은?

국제 사회에서 국가 간 분쟁이 발생하였고, 분쟁 당사국 모두가 국제 연합의 주요 사법 기관인 A에 제소한다면 A는 국제법의 법원(法源)을 근거로 판결하여 (가)에 기여한다. 그러나 A는 판결에 불복하는 당사국을 제재할 수 없다는 한계를 가지는데, 이때 대응할 수 있는 국제 연합의 기관으로 B가 있다. 만약 A의 판결을 받은 재판 당사국이 A가 내린 판결을 이행하지 않는 경우, 국제 연합의 실질적 의사 결정 기관인 B는 판결의 이행을 위해 적절한 조치를 결정할 수 있다.

- ① (가)에는 '사법적 해결'이 들어갈 수 있다.  
 ② A에 국가와 달리 국제기구는 제소할 수 없다.  
 ③ A는 재판 당사국 간 체결한 조약을 근거로는 판결할 수 없다.  
 ④ B는 5개의 상임 이사국과 10개의 비상임 이사국으로 구성된다.  
 ⑤ B의 표결 방식은 현실주의적 관점으로 설명할 수 있다.

10. 다음 자료에 대한 옳은 설명만을 <보기>에서 고른 것은?

갑국은 모든 시기에 전형적인 정부 형태 중 하나를 채택하고 있다. 표는 갑국의 t~t+3시기의 의회 구성 변화를 나타낸 것이다.

구분	정당	t시기	t+1시기	t+2시기	t+3시기
		의회 제1당 의석수(석)	A당 60	B당 60	C당 55
행정부 수반의 소속 정당		B당	B당	㉡	A당

\*갑국의 정부 형태 변화는 t+1~t+3시기 중 한 번만 나타나고, 모든 시기에 갑국 의회의 총 의석수(100석)는 변함이 없으며, 무소속 의원은 없다.

<보 기>

- ㉠. t+3시기에 갑국의 내각은 법률안을 제출할 수 없다.  
 ㉡. t+1시기에 정부 형태가 변경되었다면, ㉠에 'A당'이 들어갈 수 없다.  
 ㉢. ㉠에 'B당'이 들어간다면, 갑국은 t+3시기에 정부 형태가 변경되었다.  
 ㉣. ㉡에 'B당'이 들어간다면, ㉢에 '40'은 들어갈 수 없다.

- ① ㉠, ㉡                      ② ㉠, ㉢                      ③ ㉡, ㉣                      ④ ㉡, ㉣                      ⑤ ㉢, ㉣

11. 다음 사례에 대한 옳은 법적 판단만을 <보기>에서 있는 대로 고른 것은? [3점]

A 회사의 노동조합은 임금 인상에 관한 단체 교섭을 요구하였다. 그러나 A 회사의 사장인 을은 교섭 요구를 받아들이지 않았고, 노동조합은 적법하게 파업을 이끌었다. 1개월 후, 을은 노동조합장인 갑을 해고하였는데 갑은 을의 해고가 파업에 대한 보복이라고 주장하며 지방 노동 위원회에 구제를 신청하였다. 이에 대해 지방 노동 위원회는 부당 노동 행위가 아니라고 판정하였으며 갑은 이에 불복하여 중앙 노동 위원회에 재심을 청구하였으나 중앙 노동 위원회는 재심 청구를 기각하였다. 재심 판정 이후 갑은 법원에 행정 소송을 제기하였다.

<보 기>

ㄱ. 을이 교섭을 정당한 이유로 거절하였더라도 을의 교섭 거부는 부당 노동 행위에 해당한다.  
 ㄴ. A 회사의 노동조합은 파업으로 인해 발생한 피해에 대한 민·형사상 책임을 지지 않는다.  
 ㄷ. 갑은 노동 위원회에 구제를 신청하는 것과 별도로 법원에 해고의 효력을 다투는 소를 제기할 수 있다.  
 ㄹ. 갑은 중앙 노동 위원회의 재심 판정에 불복하여 을을 피고로 하는 행정 소송을 제기하였다.

- ① ㄱ, ㄷ                      ② ㄴ, ㄷ                      ③ ㄴ, ㄹ
- ④ ㄱ, ㄴ, ㄹ                ⑤ ㄱ, ㄷ, ㄹ

12. 다음 자료에 대한 법적 판단으로 옳지 않은 것은? [3점]

안과를 운영하는 의사인 갑은 인터넷 홈페이지에 자신의 진료 모습이 담긴 사진과 함께 라식 수술에 대한 진료 방법을 게재하는 등의 의료 광고를 하였다는 이유로 기소되어 재판을 받았다. 재판을 받는 도중 갑은 이러한 의료 광고에 대한 처벌을 규정한 법률 조항이 헌법에 위반된다고, A에 (가)의 제청을 신청하였으며, A는 갑의 신청을 받아들여 B에 (가)을/를 제청하였다. 이에 대하여 B는 의료 광고를 규제하는 이유는 소비자의 보호, 의료행위의 숭고함 등을 이유로 하는 것으로, 의료는 고도의 전문적 지식과 기술을 요하므로 일반 상품 등과는 차이가 있으며 국민의 건강에 직결되므로 해당 법률 조항의 목적이 정당하다고 보았다. 그러나 의료 광고를 일률적으로 금지하는 것은 그러한 규제를 달성하기 위한 필요한 범위를 넘어선 것이고, 소비자의 의료 정보에 대한 알 권리를 제약하므로 법익의 균형성에도 어긋난다고 위헌 결정을 하였다.

- ① A는 갑의 신청이 없어도 (가)를 B에 직권으로 제청할 수 있다.
- ② (가)는 갑이 받는 재판의 전제가 되었을 경우에만 가능하다.
- ③ B는 해당 법률 조항에 의한 기본권 제한이 침해의 최소성에 어긋나지 않지만 헌법에 위배된다고 보았다.
- ④ A, B 모두 국민의 기본권 보장 기관으로서 역할을 수행한다.
- ⑤ A의 장(長), B의 장(長) 모두 직무 집행에 있어 헌법이나 법률을 위반한 경우 탄핵 심판의 대상이 될 수 있다.

13. 민법의 기본 원리 A, B에 대한 설명으로 옳은 것은?

우리나라의 노동조합법은 근로자가 노동조합에 가입하지 않을 것 또는 노동조합에서 탈퇴할 것을 고용 조건으로 하는 황견계약을 금지하고 있는데, 이는 A에 기반하여 금지된다고 할 수 있다. 만약 각자의 자율적인 판단에 기초하여 법률관계를 형성할 수 있다는 B에 따라 이를 허용한다면 단결권 활동을 제한하기 위한 목적으로 사용자가 체결을 요구하는 점을 고려하였을 때, 노동자들의 근로 3권이 보장되지 못했을 것이다.

- ① A는 개인의 법률관계 형성에 국가가 개입할 수 없다는 원칙이다.
- ② B에 의해 소유권 행사는 공공복리에 맞게 행사되어야 한다.
- ③ A는 B와 달리 형식적인 계약의 자유에서 나아가 계약의 공정을 실현하도록 한다.
- ④ B는 A와 달리 개인이 소유한 재산에 대한 절대적 지배권을 인정하는 근거가 된다.
- ⑤ B는 A와 달리 현대의 사법 관계에서 적용되지 않는다.

14. 다음 사례에 대한 옳은 법적 판단만을 <보기>에서 있는 대로 고른 것은? [3점]

갑(17세)은 을(41세)에게 고가의 오토바이를 구매하였다. 아래 표는 갑, 을 사이에 체결된 계약의 결과를 나타낸 것이다.

<결과 1>	갑은 미성년자임을 이유로 계약을 취소할 수 없다.
<결과 2>	갑과 을은 모두 계약을 취소할 수 없다.
<결과 3>	을은 갑의 법정 대리인에게 확답을 촉구할 수 있다.

\* 갑은 계약 당시 을에게 자신이 성년인 것처럼 속임수를 쓰지 않았다.

<보 기>

ㄱ. <결과 1>은 갑이 법정 대리인의 동의를 얻어 계약을 체결하였으나 을이 오토바이의 브랜드를 속여 가격을 높게 제시한 경우 도출될 수 있다.  
 ㄴ. <결과 2>는 갑이 을과의 계약을 법정 대리인의 동의 없이 체결한 이후 갑의 법정 대리인이 해당 계약을 추인한 경우 도출될 수 있다.  
 ㄷ. <결과 3>은 갑이 미성년자임을 을이 알고 있던 경우와 모르고 있던 경우 모두에서 도출될 수 있다.  
 ㄹ. <결과 1>과 <결과 3>은 동시에 발생할 수 있는 결과이다.

- ① ㄱ, ㄹ                      ② ㄴ, ㄷ                      ③ ㄴ, ㄹ
- ④ ㄱ, ㄴ, ㄷ                ⑤ ㄱ, ㄷ, ㄹ

15. 다음 사례에 대한 옳은 법적 판단만을 <보기>에서 고른 것은? [3점]

갑은 을과 법률혼을 하였고 그 사이에서 병이 태어났다. 그러나 병이 태어난 후 을의 부정한 행위가 있었고, 이를 이유로 ㉠이혼하면서 병에 대한 양육권은 갑이 가지게 되었다. 이후 갑은 정과 법률혼 하였으며 정은 병을 ㉡친양자로 입양하였다.

<보 기>

ㄱ. ㉠은 '협의상 이혼'과 '재판상 이혼'이 모두 가능하다.  
 ㄴ. ㉠ 이전 을이 유언 없이 사망하였다고 가정한다면, 갑과 병은 모두 을의 재산을 상속받을 수 있다.  
 ㄷ. ㉡ 이전 정이 유언 없이 사망하였다고 가정한다면, 갑과 병은 모두 정의 재산을 상속받을 수 없다.  
 ㄹ. ㉡ 이후 을이 유언 없이 사망하였다고 가정한다면, 갑과 달리 병은 갑의 재산을 상속받을 수 있다.

- ① ㄱ, ㄴ                      ② ㄱ, ㄷ                      ③ ㄴ, ㄷ                      ④ ㄴ, ㄹ                      ⑤ ㄷ, ㄹ

# 4 (정치와 법)

# 사회탐구 영역

16. 다음 사례에 대한 옳은 법적 판단만을 <보기>에서 있는 대로 고른 것은? [3점]

카페를 운영하는 갑은 일정한 시간까지 A 회사에 커피를 배달하는 계약을 체결하였다. 이후 갑은 커피를 제조한 후 을이 운영하는 배달 대행 업체의 배달 대행 시스템을 통해 A 회사에 커피를 배달하는 계약을 체결하였다. 그 후 갑은 을이 고용한 병(17세)에게 제조한 커피를 전달하였다. 병은 갑이 전달한 커피를 배달하던 중 부주의로 인해 지나가던 행인 정을 치어 다치게 하였고, 커피가 모두 쏟아져 A 회사에 배달되지 못했다.

<보 기>

ㄱ. 을의 A 회사에 대한 채무 불이행 책임이 성립한다.  
 ㄴ. 병의 갑에 대한 채무 불이행 책임이 성립하지 않는다.  
 ㄷ. 병의 책임 능력이 인정되는 경우 정은 병에게 정신적 손해에 대한 손해 배상을 청구할 수 있다.  
 ㄹ. 병의 정에 대한 불법 행위 책임이 인정되는 경우 을은 정에게 불법 행위 책임을 지지 않는 경우는 없다.

- ① ㄱ, ㄹ                      ② ㄴ, ㄷ                      ③ ㄴ, ㄹ  
 ④ ㄱ, ㄴ, ㄷ                ⑤ ㄱ, ㄷ, ㄹ

[17~18] (가)는 범죄 성립요건에 관한 글, (나)는 갑, 을과 관련한 사례이다. 물음에 답하시오.

(가) 범죄가 성립하기 위해서는 어떠한 행위가 구성 요건 해당성, A, B에 모두 해당해야 한다. 따라서 구성 요건에 해당하는 행위라도 정당방위 등의 A의 조각 사유가 있을 때에는 범죄가 성립하지 않는다. 나아가 A가 조각되지 않는 행위라고 할지라도 B의 조각 사유가 있을 때에는 범죄가 성립되지 않는다.

(나) 갑(14세), 을(13세)은 병이 운영하는 매장에서 최신형 휴대전화를 훔쳐 달아났다. 갑, 을의 절도 행위를 직접 목격한 병은 갑, 을 모두를 붙잡아 경찰에 인계하였다. 이후 갑은 구속 상태에서 수사를 받았으며, 정에 의해 ㉠기소되었다. ㉡1심 재판에서 법원은 갑에게 징역 10개월에 집행 유예 2년을 선고하였으나, 정은 1심 판결에 대하여 항소하였다. 이후 ㉢2심 법원은 갑에 대한 원심을 유지하여 형을 선고하였으며, ㉣2심에서 갑의 형(刑)이 확정되었다.

17. (가), (나)에 대한 설명으로 옳은 것은?
- ① A는 행위자에게 가해지는 법적 비난 가능성을 의미한다.  
 ② B는 법질서 전체의 관점에서 부정적이라는 판단을 의미한다.  
 ③ 갑과 달리 을의 행위는 A가 조각되어 범죄가 성립되지 않는다.  
 ④ 병이 갑과 을을 붙잡은 행위는 '정당 행위'에 해당하므로 B가 조각되어 범죄가 성립되지 않는다.  
 ⑤ A가 조각되지 않는 심신 상실자의 행위는 B가 조각되므로 범죄가 성립되지 않는다.

18. (나)의 ㉠~㉣에 대한 법적 판단으로 옳은 것은?
- ① ㉠ 이전 갑은 법원에 구속 영장 실질 심사를 신청할 수 있다.  
 ② ㉠ 이후 갑의 신분은 '피고인'에서 '피의자'로 전환된다.  
 ③ 피해자인 병은 ㉡에 참여하여 의견을 진술할 수 있다.  
 ④ ㉢이 '지방 법원 단독 판사'에게서 진행되었다면 ㉣은 '고등 법원'이다.  
 ⑤ ㉣ 이후 갑은 형사 보상 제도를 활용하여 구금된 기간에 대한 보상을 받을 수 있다.

19. 밑줄 친 '군사 동맹'과 맥락을 같이하는 국제 관계를 바라보는 관점에 대한 설명으로 가장 적절한 것은?

군사 동맹은 '여럿이 하나에 대항하기 위하여' 체결된다. 즉, 군사 동맹은 사전에 적과 우방을 구분하여 이에 대처하기 위해 관계국 간에 힘의 제휴를 꾀하는 행위이다.

- ① 보편적 선의 관점에서 국제 관계를 설명한다.  
 ② 집단 안보 체제를 국제 평화 실현의 방안으로 본다.  
 ③ 국가 간 이해관계의 조화와 평화가 가능하다고 본다.  
 ④ 자국의 이익을 배타적으로 추구하는 것이 중요하다고 본다.  
 ⑤ 국제 사회에서 강제력을 행사할 수 있는 중앙 정부가 존재한다고 본다.

20. 다음 자료에 대한 분석으로 옳지 않은 것은? [3점]

전형적인 의원 내각제를 채택하는 갑국의 의회는 단순 다수 대표제로 선출된 지역구 의원 8명과 정당 투표 득표율에 따라 결정된 비례 대표 의원 5명으로 구성된다. 비례 대표 의석은 각 정당의 정당 투표 득표율에 비례 대표 의석수를 곱하여 산출된 수의 정수(整數)만큼의 의석을 각 정당에 먼저 배분하고, 잔여 의석은 소수점 이하 수가 큰 순서대로 각 정당에 1석씩 배분한다. 표는 최근 갑국 의회 의원 선거 결과를 나타낸다.

<지역구 의원 선거 결과> (단위: 표)

구분	A당	B당	C당	D당	E당	합계
지역구 1	50	20	15	10	5	100
지역구 2	15	40	20	15	10	100
지역구 3	45	25	15	5	10	100
지역구 4	25	55	5	10	5	100
지역구 5	20	5	50	10	15	100
지역구 6	20	10	40	60	20	150
지역구 7	55	35	15	25	20	150
지역구 8	30	80	50	15	25	200

<정당 투표 결과> (단위: %)

구분	A당	B당	C당	D당	E당
득표율	36	24	18	12	10

갑국은 비례 대표 의원 10명으로만 의회를 구성하는 다음과 같은 개편 방안을 검토하고 있다. 다음은 개편안에서의 비례 대표 배분 방식이다.

각 지역구에서 당선자와 2위 득표자 간 득표 차이의 절반을 당선자 소속 정당의 정당 투표 결과에 더하여 의석 할당 정당의 득표수를 산출한다. 산출된 의석 할당 정당의 득표 비율에 의회 의원 정수를 곱하여 산출된 수의 정수(整數)만큼 정당의 의석으로 먼저 배분하고, 잔여 의석은 소수점 이하 수가 큰 순서대로 각 정당에 1석씩 배분한다. 단, 의석 할당 정당은 정당 투표에서 11% 이상을 득표하여야 한다.

\* 유권자 1인은 지역구 의원에게 1표, 비례 대표 선출을 위해 정당에 1표를 행사하고 투표율은 100%이며, 무소속 의원은 없고 무효표는 없음.  
 \*\* 선거 제도 개편 방안 검토 시 위의 표를 기준으로 하여 판단함.  
 \*\*\* 의석 할당 정당의 득표 비율은 각 의석 할당 정당의 득표수를 모든 의석 할당 정당의 득표수 합계로 나누어 산출함.

- ① 현행에서 3개의 정당은 비례 대표 의석 1석을 차지한다.  
 ② 개편안에서 정당 투표 득표율과 의석률 간의 차이가 가장 작은 정당은 C당과 D당이다.  
 ③ E당은 현행과 개편안 모두에서 의석을 차지하지 못한다.  
 ④ 현행에서 A당은 과대 대표되고, 개편안에서 B당은 과소 대표된다.  
 ⑤ 갑국은 현행과 개편안 모두에서 연립 내각이 구성된다.

\* 확인 사항  
 ○ 답안지의 해당란에 필요한 내용을 정확히 기입(표기)했는지 확인하시오.


제 4 교시

# 한국사 영역

성명		수험번호																		
----	--	------	--	--	--	--	--	--	--	--	--	--	--	--	--	--	--	--	--	--

1. 다음의 '(가) 시대'의 대표적 유물로 가장 적절한 것은?

한반도 등지에서 약 70만 년 전부터 시작된 (가) 시대의 사람들은 먹을 것을 찾아 무리를 지어 이동하는 생활을 하였고, 강가에 막집을 짓고 살았다. 이 시대의 대표적 유적지인 공주 석장리에서는 복원된 막집의 모습을 찾아볼 수 있다.



2. 다음 제시문의 (가) 국가에 대한 설명으로 옳은 것은?

(가) 은/는 남으로는 진한에 접하고, 북으로는 고구려, 옥저에 접하며, 동으로는 대해(大海)에 닿아 있으니, 지금의 조선의 동쪽 땅이 그곳이다. ... (중략) ... 대군장이 없고, 한(漢) 이래로 후, 읍군, 삼로 등이 있어 하호를 다스린다. ... (중략) ... 항상 10월에 하늘에 제사를 지내고, 밤낮으로 음주가무(飲酒歌舞)를 즐기며, 이를 무천이라 한다.

- 삼국지, 권 30, 위서(魏書) 동이전 -

- ① 소를 죽인 후 그 굽으로 짐을 쳤다.
- ② 덩이쇠를 낙랑, 왜 등에 수출하였다.
- ③ 서옥제와 형사취수의 제도가 있었다.
- ④ 과하마, 반어피 등의 특산물이었다.
- ⑤ 가족이 죽으면 공동 무덤에 안치하였다.

3. 밑줄 친 '왕'의 업적으로 옳은 것은? (3점)

그 나라에는 도성을 '고마\*'라 하고 읍을 담로라 하는데, 이는 중국의 군현과 같은 말이다. 그 나라에는 22개의 담로가 있는데 왕이 자신의 자식들과 친족들에게 나누어 다스리게 하였다.

\*고마 : '곰나루'의 음차어, 현재의 공주  
-『양서』-

- ① 나제 동맹을 성사시켰다.
- ② 남조의 양과 교류하였다.
- ③ 국호를 '남부여'로 하였다.
- ④ 호북과 관등을 정리하였다.
- ⑤ 평양성 전투에서 승리하였다.

4. (가) 왕에 대한 설명으로 옳은 것은? (3점)

선생님 : 오늘은 (가) 왕에 대해 이야기해 볼까요?  
 학생 1 : 기인 제도를 시행하였습니다.  
 학생 2 : 광덕, 준풍 등의 연호를 사용하였습니다.  
 학생 3 : 혼요 10조를 반포하였습니다.  
 선생님 : 두 학생만 올바르게 답변하였군요.

- ① 지방에 12목을 설치하였다.
- ② 최초로 과거제를 시행하였다.
- ③ 대각국사 의천과 교류하였다.
- ④ 망이·망소이의 난을 진압하였다.
- ⑤ 신라왕 김부를 사심관으로 파견하였다.

5. 다음 자료와 관련된 사건이 발생한 시기를 연표에서 옳게 고른 것은?

왕이 서경에 행차하였다. ... (중략) ... 정지상 역시 서경 사람이 라 그 말을 깊이 믿고 이르기를, "서경에는 왕기가 있으니 마땅히 이어하시어 상경으로 삼아야 한다."라고 하였다. 마침내 근신 김안과 모의하기를, "우리가 만일 주상을 받들어 서경으로 이어하여 상경으로 삼는다면 마땅히 중흥공신이 될 것이니, 단지 일신만이 부귀할 뿐 아니라 자손에게도 끊임이 없는 복이 될 것이다."라고 하였다.

	(가)	(나)	(다)	(라)	(마)
노비안검법 시행	귀주 대첩	이자겸의 난	의종 즉위	무신정변	정방 설치
① (가)	② (나)	③ (다)	④ (라)	⑤ (마)	

6. 밑줄 친 학문에 대한 설명으로 옳지 않은 것은? (3점)

반정으로 정권을 장악한 서인은 명분론에 입각한 성리학적 질서를 더욱 강화하였다. 특히 서인 중에서도 노론 세력들은 성리학 사상에 입각해 양반 중심의 지배 체제를 강화하려 하였다. 그러나 성리학은 조선의 지배 이념이었지만 양반 이후 사회가 변동하면서 나타난 모순점에 대해서 해결책을 제시하지 못했다. 이에 실증적인 연구 방법으로 현실의 문제를 탐구하는 학문이 발달하게 되었다.

- ① 정약용이 여전론을 주장하였다.
- ② 이공익이 연려실기술을 저술하였다.
- ③ 유길준이 조선 중립화론을 주장하였다.
- ④ 박지원이 수레와 선박의 필요성을 강조하였다.
- ⑤ 유수원이 사농공상의 직업적 평등을 주장하였다.

7. (가) 운동에 대한 설명으로 옳은 것은? (3점)

2021년 ○○ 대학교 역사교육과 정기답사	
1일차	2일차
<b>충청북도 보은/영동</b>	<b>전라북도 고창</b>
· 법주사 팔상전 · (가) 운동의 보은 집회지 · 노근리 쌍굴다리	· 고인돌 유적지 · 선운사 마애불 · (가) 운동의 지도자인 전봉준 생가 터

- ① 민족 대표 33인이 주도하였다.
- ② 보국안민과 제폭구민을 내세웠다.
- ③ 평안도 지방에 대한 차별이 원인이었다.
- ④ 경상 우병사 백낙신의 부정부패에 항의하였다.
- ⑤ 참의부, 정의부, 신민부를 통합하려 시도하였다.

8. 다음 사건이 발생한 시기를 연표에서 옳게 고른 것은?

즉위한지 6년째 되던 해인 경신년, 국왕은 남인 중 온건파였던 영의정 허적과 좌의정 민의에게 조정의 분열을 없애도록 당부하였다. 당시 남인이 군권을 장악하였기에, 국왕은 이를 견제하려 서인인 김석주를 부체찰사로 임명하였다. 얼마 지나지 않아 서인 세력이 남인들을 역모죄로 몰아 남인의 대거 축출이 이루어졌고, 서인 세력이 정권을 차지하였다. 이른바 환국이 일어난 것이다.

(가)	(나)	(다)	(라)	(마)
기묘사화	명량 대첩	병자호란 발발	백두산정계비 건립	신해통공
				홍경래의 난

- ① (가)
- ② (나)
- ③ (다)
- ④ (라)
- ⑤ (마)

9. 다음의 (가), (나) 자료를 활용한 탐구 활동의 주제로 가장 적절한 것은?

(가) “조종의 제도에는 8도의 각 큰 고을에 모두 진관을 두어 병마 절제사라고 하였으니 법을 세운 본래의 뜻은 진실로 범연한 것이 아니었습니다. … (중략) … 조종의 원대한 계획이 이와 같이 자세한데도 가벼운 생각과 얇은 피를 가진 사람이 스스로 자기의 뜻대로 새로 규정을 만들어 내어 ‘제승방략’이라 이름하였는데, 당초 을묘년에 왜변을 당하자 이러한 일시의 구책을 마련한 것이니, 이것은 겨우 소소한 적을 상대로 할 수는 있어도 대적을 제압할 방략은 되지 못합니다.”

(나) “오늘 적세가 매우 염려되는데, 전부터 일을 처리하는 것이 이완되어 적의 난리를 겪는 2년 동안 군사 한 명을 훈련 시키거나 기계 하나를 수리한 것이 없이 중국의 원군만을 기다렸으니 불가하지 않겠는가. … (중략) … 이미 일이 다 끝났으니 따로 훈련도감을 설치하여 합당한 인원을 차출하여 장정을 뽑아 날마다 활을 익히기도 하고 포를 쏘기도 하여 모든 무예를 훈련시키도록 하고 싶으니, 이를 의논하여 처리하라.”

- ① 예송의 전개와 사회적 영향
- ② 성종의 통치 체제 정비 과정
- ③ 제승방략 체제의 긍정적 효과
- ④ 임진왜란 이후 군사 제도의 변혁
- ⑤ 조선 후기 지방 통치 제도의 특징

10. 제시문의 (가) 국가에 대한 설명으로 옳지 않은 것은?

오른쪽 사진은 (가)의 숙종 때에 나라의 지형을 본떠 만든 화폐로, 활구라고도 불린다. 또한 이때에는 삼한통보, 해동통보 등의 동전도 주조되었다.



- ① 시집인 동문선이 출간되었다.
- ② 서적포와 양현고가 설치되었다.
- ③ 빈민 구제 기구인 의창이 있었다.
- ④ 역사서를 편찬하는 춘추관이 있었다.
- ⑤ 벽란도가 국제적 무역항으로 성장하였다.

11. 자료와 관련된 시기를 연표에서 옳게 고른 것은? (3점)

우의정 김육이 상차하기를, “왕자(王者)의 정사는 백성을 편안하게 하는 것보다 우선할 일이 없으니 백성이 편안한 연후에야 나라가 안정될 수 있습니다. ... (중략) ... 대동법은 역을 고르게 하여 백성을 편안하게 하기 위한 것이니 시대를 구할 수 있는 좋은 계책입니다. 만약 경기 지역을 넘어 호남과 호서 지방에서 시행하면 백성을 편안하게 하고 나라에 도움이 되는 방도로 이보다 더 큰 것이 없을 것입니다.

	(가)	(나)	(다)	(라)	(마)
동의보감 편찬	이인좌의 난	균역법 실시	수원화성 축조	신유박해	삼정이정청 설치

- ① (가)      ② (나)      ③ (다)      ④ (라)      ⑤ (마)

12. 다음 자료가 발표된 이후 볼 수 있는 모습으로 적절하지 않은 것은?

집이 정부에 명하여 학교를 널리 세우고 인재를 양성하는 것은 너희들 신하와 백성의 학식으로 나라를 중흥시키는 공로를 이룩하기 위해서이다. 너희는 임금에게 충성하고 나라를 사랑하는 마음으로 덕성, 체력, 지혜를 기르라. 왕실의 안전도 신하와 백성의 교육에 달려 있고, 나라의 부강도 신하와 백성의 교육에 달려 있다.

- 「교육 입국 조서」 -

- ① 관제 개혁 문제를 논의하는 군국기무처의 관료
- ② 제천 지역에서 의병 항쟁을 준비하는 유인석
- ③ 신돌석의 의병 부대와 교전하는 일본군
- ④ 러시아 공사관으로 피신하는 고종
- ⑤ 정부의 단발령에 반발하는 선비

13. (가) 단체에 대한 설명으로 옳은 것은? (3점)

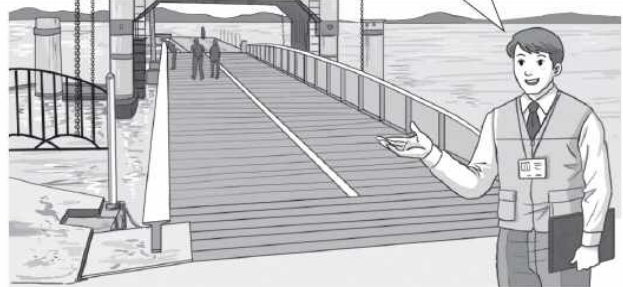
- □(가)에서는 절영도 문제로 외무대신서리 민중묵에게 다음과 같은 내용의 편지를 보내었다. ‘절영도에 러시아인이 석탄고를 건축하려 하여 8만 평방미터를 청구한다 하였다. ... (중략) ... 그러니 조량한 후 즉각 대답하기 바란다.’

- 외무대신서리 민중묵이 □(가)에 절영도 문제에 관한 해답을 보내었다. ‘지난해 러시아 공사 웨베르가 절영도를 조차하고 그곳에 석탄고 기지를 지정하여 달라고 청하기에 ... (중략) ... 요사이 8만 평방미터를 준다는 말은 공론이 분등하나 여러 대인네는 시국을 마땅히 작량하시리니 바라건데 두터이 용서하시오.’

- ① 13도 창의군 조직을 주도하였다.
- ② 황국협회와 정치적으로 대립하였다.
- ③ 일본의 황무지 개간권 요구에 대항하였다.
- ④ 대한국 국제의 제정에 영향을 받아 창설되었다.
- ⑤ 전국 각지에 지회를 설치하고 「월보」를 간행하였다.

14. 밑줄 친 ‘이 정책’의 영향으로 가장 적절한 것은?

이곳 군산 내항의 뜬다리 부두는 간조와 만조의 수위 변화와 무관하게 대형 선박을 접안시키기 위해 조성한 것입니다. 제차 세계 대전 이후 일본은 자국의 식량 부족 문제를 해결하기 위해 식민지 한국에서 쌀 생산을 늘리는 이 정책을 시행하였습니다. 그 영향으로 군산항에 이러한 시설이 설치되었습니다.



- ① 녹음이 폐지되었다.
- ② 남면북양 정책이 시행되었다.
- ③ 국민 대표 회의가 개최되었다.
- ④ 압태도에서 소작 쟁의가 발생하였다.
- ⑤ 대구에서 국채 보상 운동이 전개되었다.

15. 밑줄 친 ‘선언’의 영향으로 가장 적절한 것은? (3점)

전진회는 지난 19일 오전 11시에 견지동에서 긴급위원회를 열고 정우회에서 발표한 선언에 대해 토의를 가졌는데 그 결의는 다음과 같았다.

“정우회의 선언은 조선 민중운동 발전의 현실에 비추어 통일적 치침 정책이 되지 못하고 도리어 민중의 방향을 현혹하는 것으로 판단하고 선언의 내용을 검수하기 위하여 위원 3인을 선정함.”

- 『동아일보』

[선생님 설명]

전진회와 정우회는 사회주의 계열의 단체라는 점에서 공통점을 갖지만 적대적인 관계에 있었습니다. 그러던 중 정우회에서 비타협적 민족주의자와의 제휴에 찬성하는 선언을 발표하자 전진회는 이를 개량주의라고 비판하는 논설문을 발표하여 동아일보에 게재하기도 하였습니다.

- ① 조선총독부가 문화 통치를 표방하였다.
- ② 6·10 만세 운동이 전개되었다.
- ③ 조선 혁명 선언이 발표되었다.
- ④ 치안유지법이 제정되었다.
- ⑤ 신간회가 창설되었다.



16. (가), (나) 사이 시기에 발생한 사실로 옳은 것은?

(가) 전쟁이 한창이던 7월, 취재를 위해 한국에 와 있던 영국인 기자가 양기탁 등 민족 계몽 계열 사회운동가들의 지원을 얻어 신문을 발행하기 시작하였다.  
 (나) 연해주 블라디보스토크의 신한촌에서 이상설 등의 주도로 교민들의 지위 향상, 민족의식 고취, 항일 투쟁을 위한 경제적 실력 배양 등을 목적으로 한 단체가 조직되었다.

- ① 국문 연구소가 설립되었다.
- ② 울릉도가 울도군으로 승격되었다.
- ③ 군 통수 기관인 원수부가 설치되었다.
- ④ 일본 상품에 대한 관세가 폐지되었다.
- ⑤ 대한민국 임시 정부가 충청에 정착하였다.

17. 다음의 칙령이 제정된 이후 있었던 일로 옳은 것은?

본 법령에 의해 폐지된 법령에 따라 총독부의 허가를 받고 설립된 회사 중 본 법령 시행 시 존속하고 있는 것은 조선민사령에 의하여 설립된 것으로 간주함.

본 법령 시행 전 폐지된 법령에 따라 이루어진 행위는 조선민사령 중 이에 상당한 규정이 있을 경우 그 규정에 따라 행한 것으로 간주함.

- 「조선총독부제령 제7호」 -

- ① 조선 태형령이 제정되었다.
- ② 조선 공산당이 창당되었다.
- ③ 105인 사건이 전개되었다.
- ④ 대한 광복회가 조직되었다.
- ⑤ 헤이그 특사가 파견되었다.

18. 밑줄 친 '사건'의 배경으로 가장 적절한 것은? (3점)

<잔인극악하게 학살, 11일 중앙부두 앞바다서 발견>  
 사건 당시 실종자로 알려졌던 김주열 군은 11일 오전 11시 30분경 중앙부두 앞바다에서 잔인극악한 시체로 드디어 판별되었다. ... (중략) ... 그간 마산 시민은 물론 전국적인 수수께끼로 되어 오던 김 군의 시체 발견으로 사건 당시 행방불명되어 생사가 묘연해진 여타의 실종자들에 대한 수사 각도도 필연코 달라지게 될 것으로 보인다.

- 「마산일보」 -

- ① 전두환 대통령이 4·13 호헌 조치를 발표하였다.
- ② 12·12 사태를 통해 신군부가 권력을 잡았다.
- ③ 대구의 학생들이 자유당 독재에 항거하였다.
- ④ 이승만 대통령이 부정 선거를 자행하였다.
- ⑤ 박정희 대통령이 3선 개헌을 추진하였다.

19. 밑줄 친 '선언' 이후에 볼 수 있는 모습으로 옳은 것은? (3점)

정부는 직선제 개헌을 요구하는 국민들의 목소리를 무시하고, 개헌 논의를 중단시키는 호헌 조치를 발표하였다. 이에 여러 도시의 시민들은 국민 대회를 개최하여 항쟁을 일으켰고, 항쟁이 거세지자 당시 여당인 민정당의 대통령 후보가 대통령 직선제 개헌을 추진하겠다는 선언을 발표하였다.

- ① 대통령 사임 후 과도 정부를 이끄는 허정
- ② 베트남에 군대를 파병할 것을 결정하는 정부
- ③ YH 무역 여성 노동자들의 시위를 진압하는 경찰
- ④ 국교 정상화를 위해 비밀리에 만난 김종필과 오히라
- ⑤ 경제 협력 개발 기구 가입 소식을 듣고 기뻐하는 기업인

20. 다음 선언을 발표한 정부에 대한 설명으로 옳은 것은? (3점)

남북 정상들은 분단 역사상 처음으로 열린 이번 상봉과 회담이 서로 이해를 증진시키고 남북관계를 발전시키며 평화통일을 실현하는데 중대한 의의를 가진다고 평가하고 다음과 같이 선언한다.

1. 남과 북은 나라의 통일문제를 그 주인인 우리 민족끼리 힘을 합쳐 자주적으로 해결해 나가기로 하였다.
3. 남과 북은 올해 8.15에 즈음하여 흩어진 가족, 친척 방문단을 교환하며 비전향장기수 문제를 해결하는 등 인도적 문제를 조속히 풀어 나가기로 하였다.
4. 남과 북은 경제협력을 통하여 민족경제를 균형적으로 발전시키고 사회, 문화, 체육, 보건, 환경 등 제반 분야의 협력과 교류를 활성화하여 서로의 신뢰를 다져 나가기로 하였다.

- ① 남북 조절 위원회를 설치하였다.
- ② 통일 주체 국민 회의를 설치하였다.
- ③ 5공화국 비리 청문회를 개최하였다.
- ④ 한반도 비핵화 공동 선언을 추진하였다.
- ⑤ 국제 통화 기금의 지원금을 조기 상환하였다.

※ 확인 사항

○ 답안지의 해당란에 필요한 내용을 정확히 기입(표기)했는지 확인 하시오.

※ 감독관의 안내가 있을 때까지 표지를 넘기지 마시오.